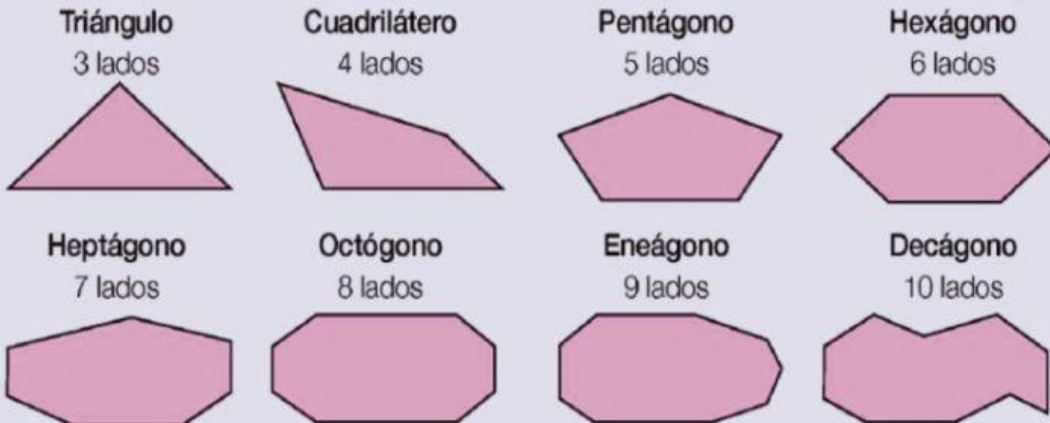


# Polígonos



Marta y Teo han recortado en cartulina varios polígonos. Después, los han clasificado según el número de lados.



Lados:

Nombre:

Lados:

Nombre:


Lados:

Nombre:

Lados:

Nombre:

1 Cuenta el número de lados y clasifica los polígonos.

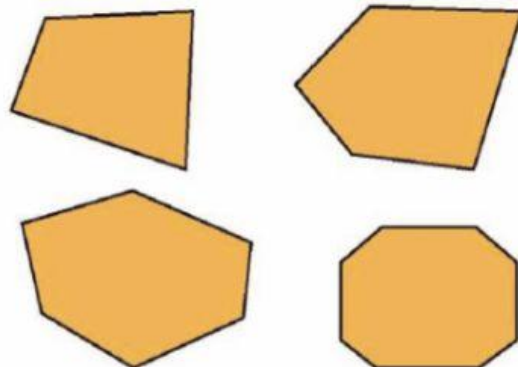
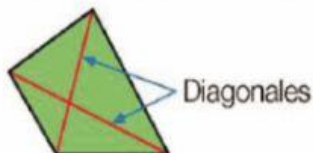


¿Cuántos ángulos tiene un octógono? ¿Y un decágono?

2 Calca y traza en cada polígono dos diagonales.

## HAZLO ASÍ

Una diagonal es un segmento que une dos vértices no consecutivos.



3 Haz un dibujo, piensa y contesta.

- ¿Tiene el triángulo alguna diagonal?
- ¿Cuántas diagonales tiene un cuadrilátero?