

ALUNNO: _____

CLASSE: _____

COMPLETA CON LE PAROLE **ANGOLO**, **MOLTI ANGOLI**, **LATO**, **VERTICE**, **CONFINE**, **AMPIEZZA**, **PERIMETRO**

OGNUNO DEI SEGMENTI CHE FORMA LA LINEA SPEZZATA _____

PUNTO DI INCONTRO DEI DUE LATI _____

LINEA SPEZZATA CHE COSTITUISCE IL CONTORNO DEL POLIGONO _____

PARTE DI PIANO DELIMITATA DA DUE LATI CONSECUTIVI _____

VOCABOLO CHE NASCE DEL GRECO, POLIGONO, E SIGNIFICA _____

MISURA DEL CONTORNO DEL POLIGONO _____

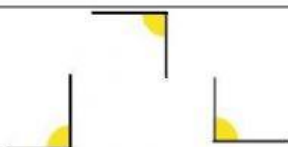
SPAZIO COMPRESO FRA LE DUE SEMIRETTE CHE SI MISURA IN GRADI _____

VERO O FALSO? LEGGI E CLICCA SULLA RISPOSTA ESATTA

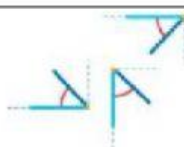
V

F

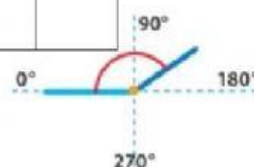
LA LINEA RETTA È ILLIMITATA		
UN PUNTO DIVIDE LA RETTA IN DUE SEMIRETTE		
LA SEMIRETTA INIZIA IN UN PUNTO		
LA RETTA SI PUÒ MISURARE		
UN SEGMENTO È UNA PARTE DI RETTA COMPRESA TRA DUE PUNTI		
UN ANGOLO RETTO MISURA 90°		
UN ANGOLO ACUTO È MAGGIORE DI UN ANGOLO RETTO		
LE LINEE PARALLELE SONO QUELLE LINEE CHE, INCONTRANDOSI, FORMANO 4 ANGOLI RETTI, CIOÈ UGUALI		
LE LINEE RETTE PERPENDICOLARI NON HANNO PUNTI IN COMUNE, CIOÈ PROCEDONO NELLA STESSA DIREZIONE SENZA MAI INCONTRARSI		
GLI ANGOLI SI CLASSIFICANO IN BASE ALLA LORO AMPIEZZA		



ANGOLI _____



ANGOLI _____



ANGOLO _____