

SEMANA 09

RAZONAMIENTO MATEMÁTICO

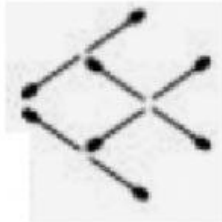
1RO DE SECUNDARIA

## PRODUCTO



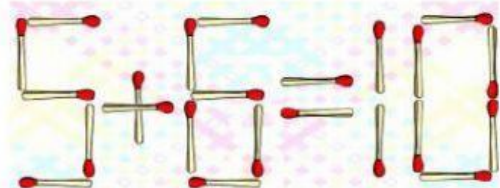
### DESCRIPCIÓN DE LAS PREGUNTAS

- 1) ¿Cuántos cerillos debo mover para que el pez mire hacia la derecha?



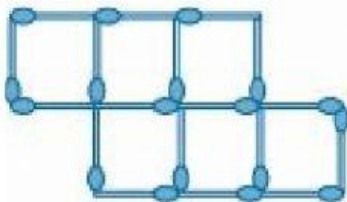
- a) 1
- b) 2
- c) 3
- d) 4
- e) 5

- 2) ¿Cuántos cerillos se deben retirar, como mínimo, para que la operación sea correcta?




- a) 3
- b) 4
- c) 5
- d) 1
- e) 2

- 3) ¿Cuántos palitos se deben quitar como mínimo, para que solo queden cuatro cuadrados del mismo tamaño?



- a) 3
- b) 4
- c) 5
- d) 1
- e) 2

- 4) ¿Cuántos cerillos como mínimo, se deben mover para formar tres cuadrados del mismo tamaño?



- a) 3
- b) 4
- c) 5
- d) 1
- e) 2