

























Nombre: _____

Cuenta y ubica la cantidad de peces que se piden en cada pecera y responde.

A) 10 peces **amarillos**

B) 12 peces **azules**



- ¿Cuál es la pecera que tiene más peces?

R. _____

- ¿Cuántos peces más hay en la pecera B?

R. _____