

REPASO NUMEROS ENTEROS - 2

- 7 En un centro comercial tres personas cogen el ascensor en la planta 7. ¿En qué orden se irán bajando?

Arrastra el nombre a donde corresponda

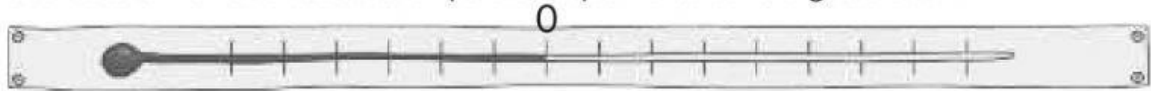
Se baja primero:

Después se baja:

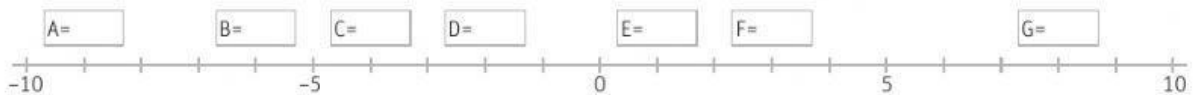
Por último se baja:



- 8 Gonzalo ha escuchado en la radio que la temperatura mínima del día sería de -5°C y la máxima de $+8^{\circ}\text{C}$. Marca en este termómetro todas las temperaturas que marcará a lo largo del día.



- 9 Indica los números marcados en la siguiente recta con letras.



- 10 Calcula estas sumas.

$$(+3) + (+1) =$$

$$(-8) + (+5) =$$

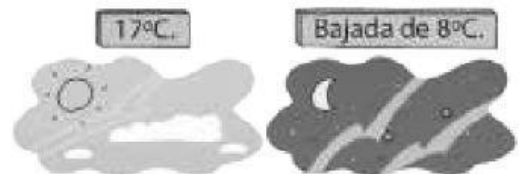
$$(-1) + (-10) =$$

$$(+7) + (-4) =$$

- 11 Coloca el signo que corresponde.

$$(+6) + (\square 5) = +1 \quad (\square 12) + (+3) = +15 \quad (\square 8) + (-2) = -10 \quad (-11) + (\square 7) = -4$$

- 12 Cuando Sara miró la temperatura, hacía 17°C . Al volver a casa, observó que la temperatura había descendido 8°C . ¿Qué temperatura hacía?



Al llegar a casa la temperatura era de _____ $^{\circ}\text{C}$

- 13 Resuelve estas rectas.

$$(+7) - (+3) =$$

$$(-2) - (+4) =$$

$$(+8) - (-1) =$$

$$(-2) - (-3) =$$