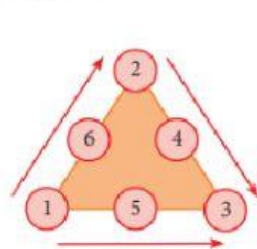


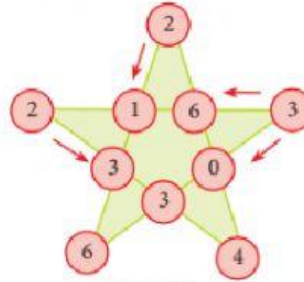


Triángulos y Estrellas Mágicas

Si se suma cada una de las filas que conforman el triángulo o la estrella siempre es la misma.



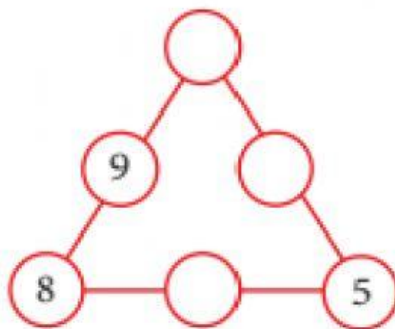
Suma: 9



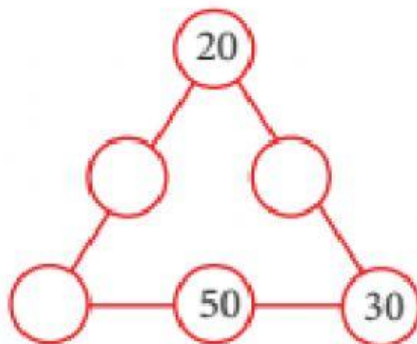
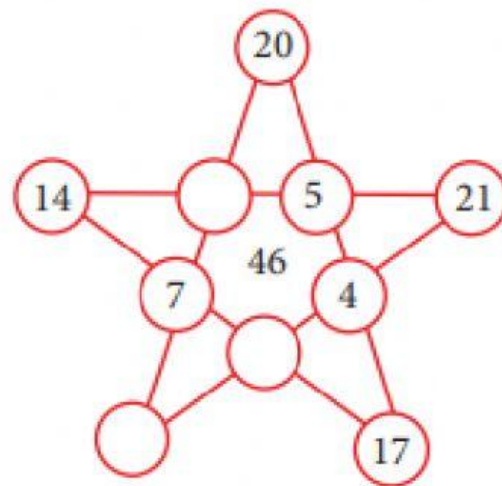
Suma: 12



En cada círculo escribe los números que faltan, sin repetirlos, de tal manera que, la suma de cada lado sea igual a la suma dada.



Suma: 27



Suma: 90