

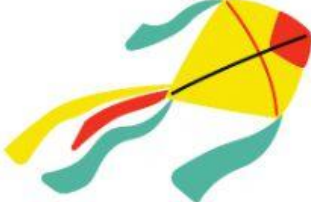











Nama: \_\_\_\_\_

Kelas: \_\_\_\_\_

## Benda Hidup dan Benda Tak Hidup

tentukan benda-benda berikut dengan menuliskani jawaban "H" (untuk benda hidup) dan jawaban "TH" pada tiap-tiap kotak yang tersedia.

 <input type="text"/>	 <input type="text"/>	 <input type="text"/>
 <input type="text"/>	 <input type="text"/>	 <input type="text"/>
 <input type="text"/>	 <input type="text"/>	 <input type="text"/>
 <input type="text"/>	 <input type="text"/>	 <input type="text"/>

## ciri-ciri makhluk hidup

Tentukanlah benda-benda berikut dengan jawaban yang tepat.

"Y" untuk benda yang dapat berkembang biak dan "T" untuk benda yang tidak dapat berkembang biak.

No.	Nama benda	Keterangan
1.	cacing	<input type="text"/>
2.	patung	<input type="text"/>
3.	rumput	<input type="text"/>
4.	baju	<input type="text"/>
5.	tas	<input type="text"/>
6.	nyamuk	<input type="text"/>
7.	tanaman pisang	<input type="text"/>
8.	batu	<input type="text"/>