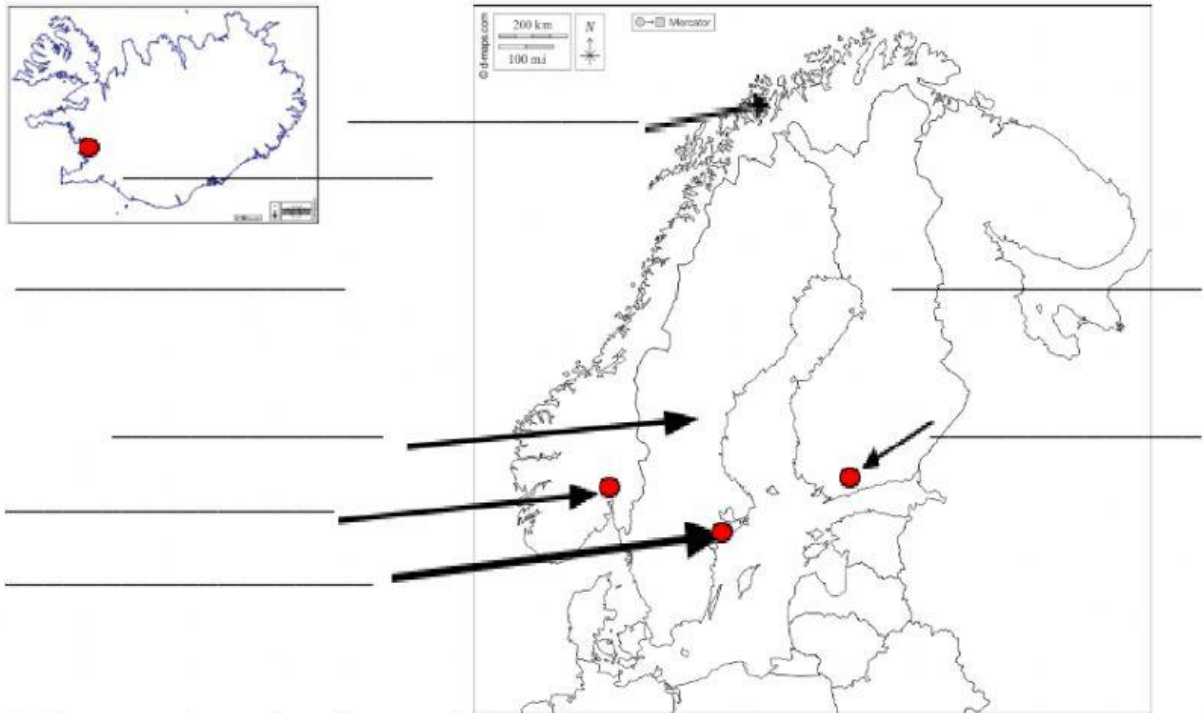














## SCANDINAVIA e ISLANDA

Inserisci i nomi dei Paesi e delle capitali al posto giusto:

- |   |   |   |  |
|---|---|---|--|
|  Finlandia |  Helsinki  |  Islanda   |  Norvegia |
|  Oslo      |  Reykjavik |  Stoccolma |  Svezia   |



Collega ogni parola alla sua definizione:

- |   |  |
|---|--|
| Geyser     |  Popolazione che nell'VIII secolo occupava le coste di Svezia, Norvegia e Danimarca |
| Tundra     |  Territorio a nord della Finlandia  |
| Fiordo     |  Capitale della Svezia  |
| Vichinghi  |  Getto di acqua bollente che esce dal terreno                                       |
| Lapponia   |  Paesaggio del nord dove crescono muschi e licheni                                  |
| Stoccolma  |  Profonda insenatura della costa norvegese  |

<i>Indica se le seguenti affermazioni sono vere o false</i>	<b>V</b>	<b>F</b>
I Paesi dell'Europa del Nord hanno un <b>clima continentale freddo</b>		
I Paesi dell'Europa del Nord hanno <b>servizi pubblici</b> efficienti e gratuiti		
L' <b>Islanda</b> ha una forma stretta e allungata		
Le <b>università svedesi</b> sono tra le migliori d'Europa		
In Norvegia il <b>clima</b> è <b>mediterraneo</b>		
L' <b>Islanda</b> è l'isola più grande d'Europa		
Nella <b>tundra</b> crescono muschi e licheni		
La capitale della <b>Finlandia</b> è Oslo		
La <b>Finlandia</b> è un Paese molto ricco.		

*Indica quali sono i principali prodotti di questi Paesi: (tre prodotti)*

patate      fragole      albicocche      legname      pesce

*Indica qual è la religione prevalente in questi Paesi:*

cristiana protestante      cristiana cattolica      musulmana