



EVALUACIÓN BIMESTRAL DE RAZONAMIENTO MATEMÁTICO

Hijo(a) del Rey: _____

Grado: 3° Grado

Profesora : Cindy Condor Moreno

Fecha: 16/05/22

I. Observa y selecciona la figura diferente.

a)



b)



c)



d)



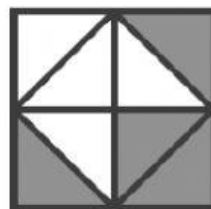
a)



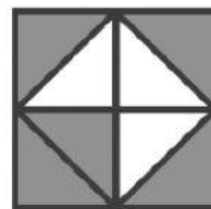
b)



c)



d)



II. Resuelve y descubre los números que faltan:

16	+	5	=	
+		+		+
	+		=	17
=		=		=
22	+		=	

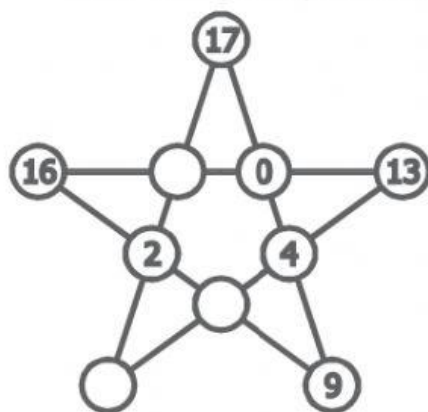
35	+		=	43
+		+		+
	+		=	
=		=		=
37	+	17	=	



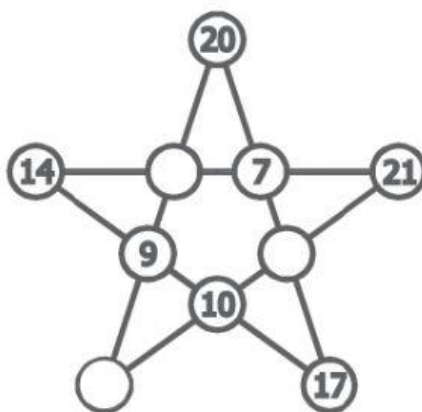
23	-	5	=	
-		-		-
	-		=	5
=		=		=
14	-		=	13

54	-	19	=	
-		-		-
29	-	17	=	
=		=		
	-		=	

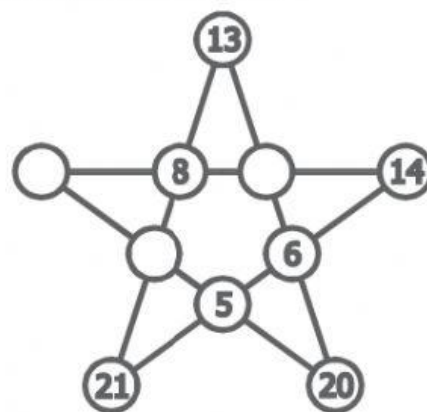
III. Descubre y anota los números que faltan en cada estrella. Halla la suma:



Suma: _____

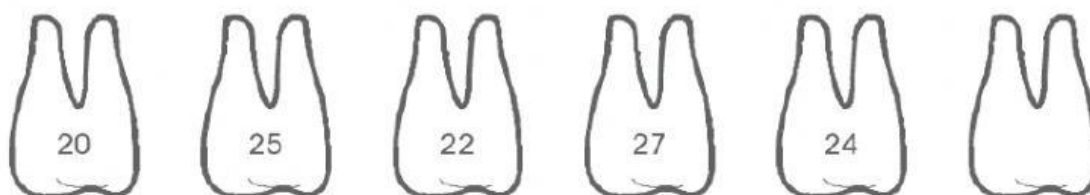


Suma: _____



Suma: _____

IV. Descubre la regla de sucesión y completa la sucesión.



a) La regla de formación es: _____.



b) La regla de formación es: _____.