

Prueba Diagnóstica de Séptimo Grado

1. En una tienda hay 8 310 gramos de arroz y se han vendido 3 240 gramos. ¿Cuántos gramos de arroz quedan en la tienda?

- a) 5 070 gramos
- b) 5 130 gramos
- c) 5 170 gramos
- d) 11 550 gramos

2. Lee detenidamente la siguiente carta:

Santo Domingo, 13 de agosto de 2014

Queridos abuelos:

Les escribo desde la casa de la tía Adelaida para contarles que estoy muy alegre. Mis primos y yo nos hemos divertido muchísimo y además, he aprendido mucho sobre la vida en el campo. Todos los días nos levantamos muy temprano para recoger huevos y aprovechamos para alimentar a las gallinas. Después, vamos a los establos para ordeñar a las vacas. Luego de nuestras tareas bajamos al río y nos bañamos porque es muy limpio y tranquilo. Como ven, tenemos muchas actividades que nos mantienen entretenidos.

Ojalá nos puedan visitar muy pronto antes que las vacaciones terminen y tengamos que regresar a Quito. Mis clases empiezan los primeros días de septiembre y tengo que regresar a casa para alistar mis materiales del colegio.

Los quiero y extraño mucho,
Juan José

Escoge y encierra la respuesta correcta con relación al mensaje de la carta:

¿A quién va dirigida la carta?

- a. A la tía Adelaida
- b. A la mamá de Juan José
- c. A los abuelitos

3.- Encuentre los mamíferos en la siguiente sopa de letras:



COYOTE
LEON
ELEFANTE
GUEPARDO
ARDILLA

PANTERA
HIENA
LINCE
BALLENA
TIGRE






RINOCERON
~~H~~POPOTAM
~~R~~ATA
LEOPARDO
VACA

JIRAFÁ

4. Identifique el sonido de la vaca:



5. Completa la siguiente tabla con las monedas necesarias para obtener la cantidad indicada. Intenta usar el menor número de monedas posible:

					
41ctv					
87ctv					