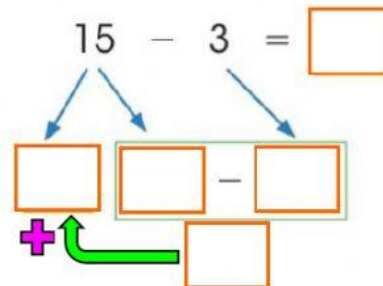
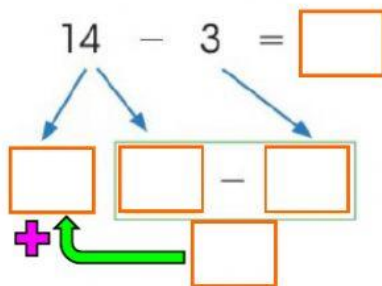
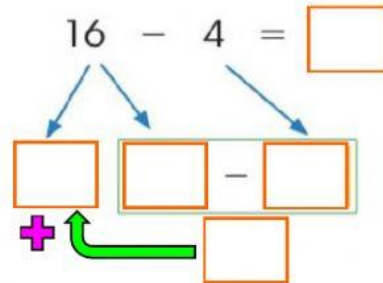
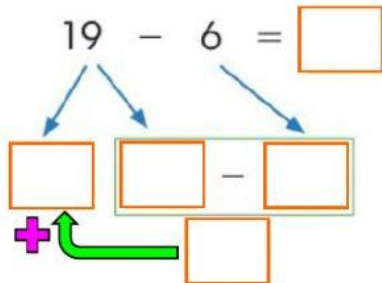


Operaciones combinadas

1- Resuelve las siguientes restas utilizando el diagrama. El 10 quedará afuera de la operación. **Resuelve primero la operación del rectángulo verde.**



2- Resuelve las siguientes restas utilizando el diagrama. El 10 quedará dentro de la operación. **Resuelve primero la operación del rectángulo verde.**

