





Calcula en el orden que te marcan las flechas:


90 + <sup>7</sup>  + <sup>6</sup>  + <sup>3</sup>  + <sup>8</sup>

  + <sup>8</sup>  + <sup>2</sup>  + <sup>5</sup>  +  + <sup>2</sup>

<sup>3</sup> +  + <sup>9</sup>  +  + <sup>4</sup>  + <sup>5</sup>

<sup>6</sup> +  + <sup>1</sup> +  + <sup>7</sup>  + <sup>1</sup>  + <sup>4</sup>

<sup>7</sup> +  +  + <sup>6</sup>  + <sup>9</sup>  + <sup>1</sup>

<sup>9</sup> +  + <sup>5</sup> +  + <sup>3</sup>  +  + <sup>7</sup>  + <sup>9</sup>

<sup>1</sup> +  + <sup>2</sup> +  + <sup>8</sup> +  + <sup>3</sup> +  + <sup>6</sup>

<sup>4</sup> +  + <sup>5</sup> +  + <sup>2</sup> +  + <sup>8</sup> +  + <sup>3</sup> +  + <sup>6</sup>