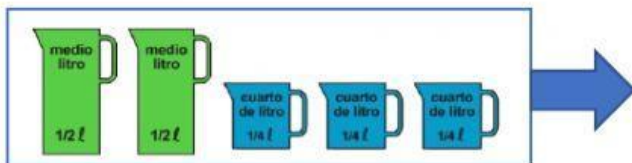
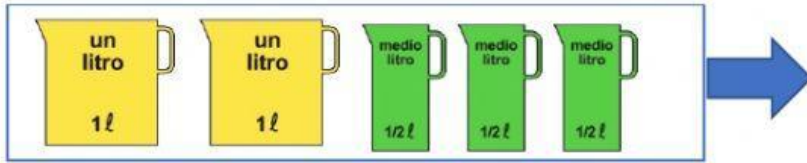
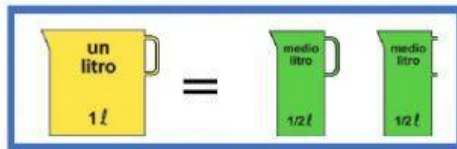


¿Cuántos litros hay?



Belén ha echado en un cubo 28 vasos de un cuarto de litro. ¿Cuántos litros de agua hay en el cubo?

¿Cuántas botellas de refresco de medio litro se llenan con una garrafa de dos litros y medio?

Un depósito tiene una capacidad de 248 litros. Si lo llenamos con garrafas de 8 litros, ¿Cuántos garrafas necesitaremos para llenarlo?

