

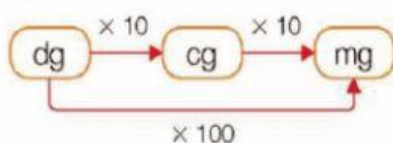


JUEGO MP: Kilo y gramo

4 Observa el esquema y expresa cada capacidad en la unidad indicada.



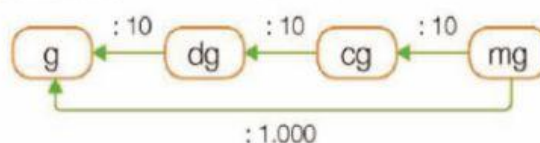
EJEMPLO 8 dg en mg



$$8 \times 100 = 800 \rightarrow 8 \text{ dg} = 800 \text{ mg}$$

- 3 g en dg
- 12 cg en mg
- 29 g en cg
- 7 g en mg

EJEMPLO 6.000 mg en g

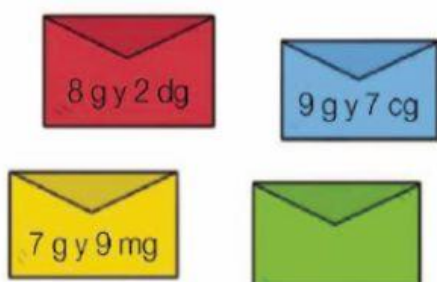


$$6.000 : 1.000 = 6 \rightarrow 6.000 \text{ mg} = 6 \text{ g}$$

- 90 dg en g
- 600 cg en dg
- 500 cg en g
- 4.000 mg en dg

## Problemas

5 Resuelve.



Beatriz ha ido a correos a enviar estas cartas.

- ¿Cuántos decigramos pesa la carta roja?
- ¿Cuántos centigramos pesa la carta azul?
- ¿Cuántos miligramos pesa la carta amarilla?
- ¿Cuántos miligramos puede pesar la carta verde si pesa más que la carta amarilla y menos que 8 g?