



Nombre: _____

Indicaciones generales: a continuación, se presentan una serie de ejercicios, resuelva correctamente cada uno de ellos, utilice hojas extra para realizar los procedimientos que sean necesarios.

ACTIVIDAD I: valor 10 puntos cada respuesta correcta, total 50 puntos.

Indicaciones: arrastre los números mayas al nivel que corresponde para formar el número 93 647 en el sistema de numeración maya.



1. Para convertir el número 93 647 al sistema de numeración maya, se inicia dividiendo entre 8000.


CORRECTO

INCORRECTO


ACTIVIDAD II: valor 10 puntos cada respuesta correcta, total 50 puntos.

Indicaciones: convierta los siguientes números decimales al sistema de numeración maya, luego una a través de una línea la representación maya correspondiente a cada uno.


23



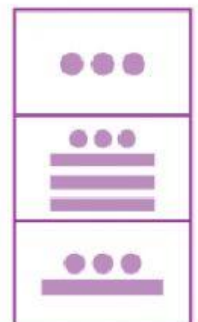
1 568



271



1 585



114 140

