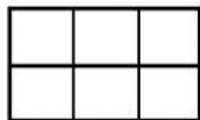


Comparación de fracciones

Observa y colorea en cada figura la fracción indicada (de izquierda a derecha y de arriba abajo).

Luego aprende completando las frases escogiendo la palabra y el signo adecuado

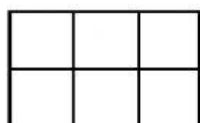


$\frac{4}{6}$

Las dos fracciones tienen igual

Es mayor la fracción que tiene

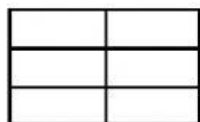

numerador



$\frac{2}{6}$

$\frac{4}{6}$

$\frac{2}{6}$




$\frac{2}{6}$

Las dos fracciones tienen igual

Es mayor la fracción que tiene

denominador



$\frac{2}{3}$

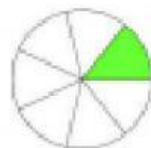
$\frac{2}{6}$

$\frac{2}{3}$



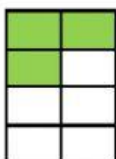
$\frac{3}{4}$

$\frac{3}{5}$



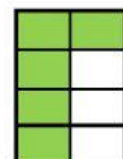
$\frac{1}{7}$

$\frac{1}{4}$



$\frac{3}{8}$

$\frac{5}{8}$



$\frac{6}{10}$

$\frac{4}{10}$

