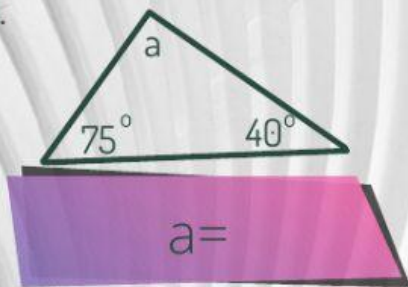


Triangoli
Triangoli

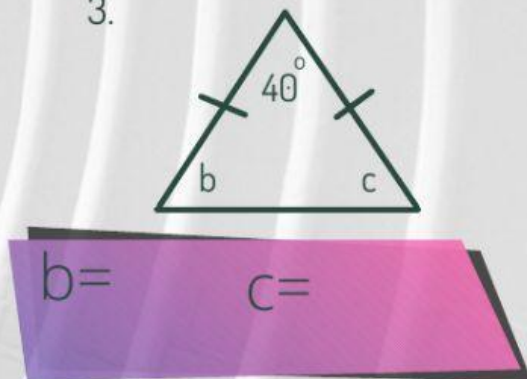
Angoli del Triangolo

Trova l'ampiezza di ogni angolo

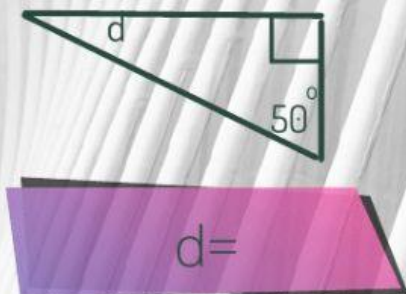
1.



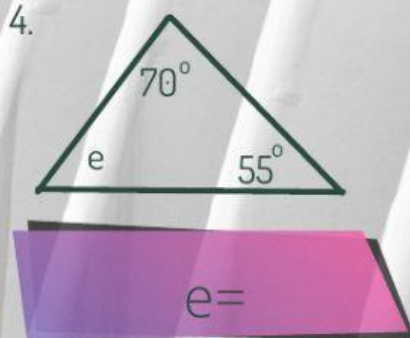
3.



2.



4.



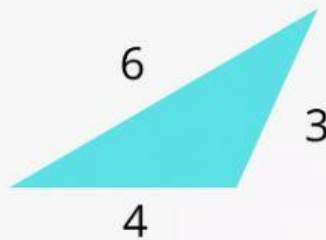
Lati del triangolo

Ogni lato del triangolo deve essere più corto della somma degli altri due.

Determina se con le misure date si può costruire un triangolo.
Il primo è un esempio

Per esempio:

Una figura con i lati di 3, 4, e 6 cm forma un triangolo



$$6 < (3 + 4)$$

$$4 < (3 + 6)$$

$$3 < (4 + 6)$$

Lati	Forma un triangolo?
3, 4, 5	sì
1, 2, 5	
4, 6, 9	
7, 7, 7	
2, 5, 10	
4, 4, 4	

CLASSIFICA I TRIANGOLI IN BASE AGLI ANGOLI



Classificare triangoli

Classifica i triangoli in base agli angoli.

- **Acutangolo:** tutti gli angoli sono acuti (minori di 90°).
- **Rettangolo:** un angolo è retto (90°).
- **Ottusangolo:** un angolo è ottuso (maggiore di 90°).

