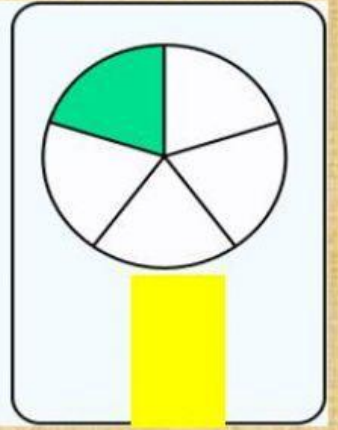
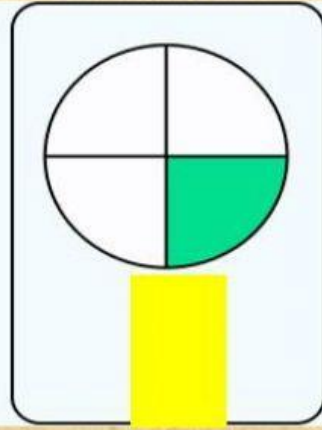
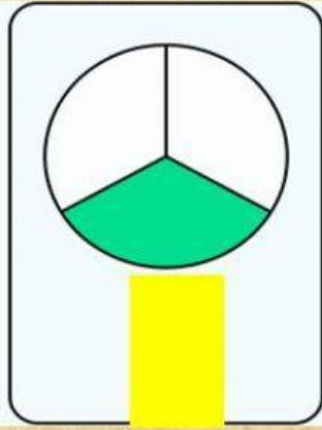
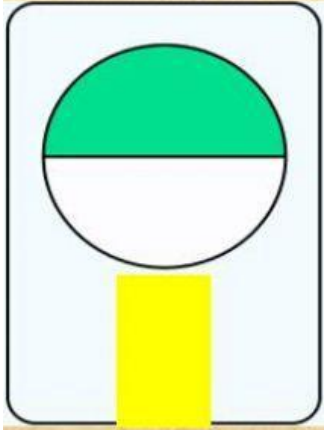


Запиши дробом, яку частину фігури зафарбовано:



Знайди усно і запиши, чому дорівнює **частина** від числа:

$$\frac{1}{5} \text{ від } 75 = \boxed{} \quad \frac{1}{7} \text{ від } 91 = \boxed{}$$

$$\frac{1}{3} \text{ від } 57 = \boxed{}$$

Знайди **ціле** число, якщо:

$$\frac{1}{4} = 44 \quad \text{Ціле} = \boxed{} \quad \frac{1}{6} = 36 \quad \text{Ціле} = \boxed{} \quad \frac{1}{2} = 18 \quad \text{Ціле} = \boxed{}$$