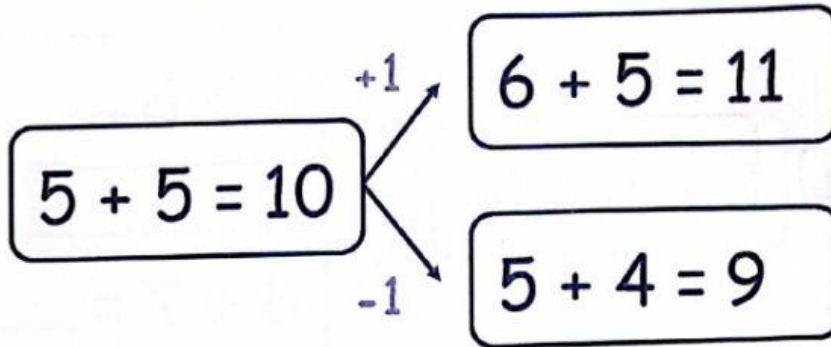




## Dobles imperfectos



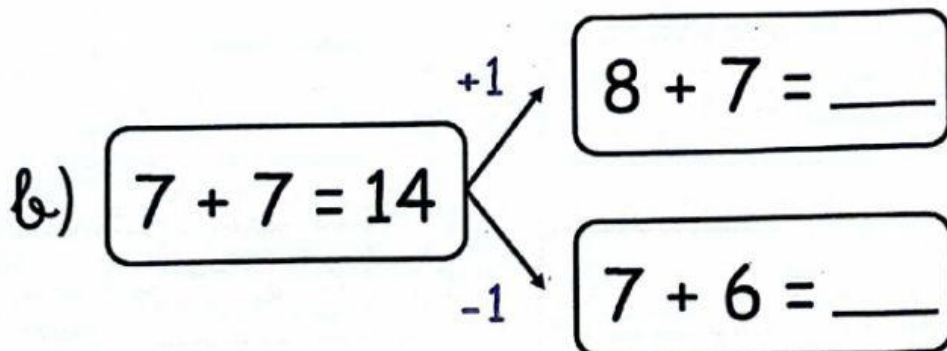
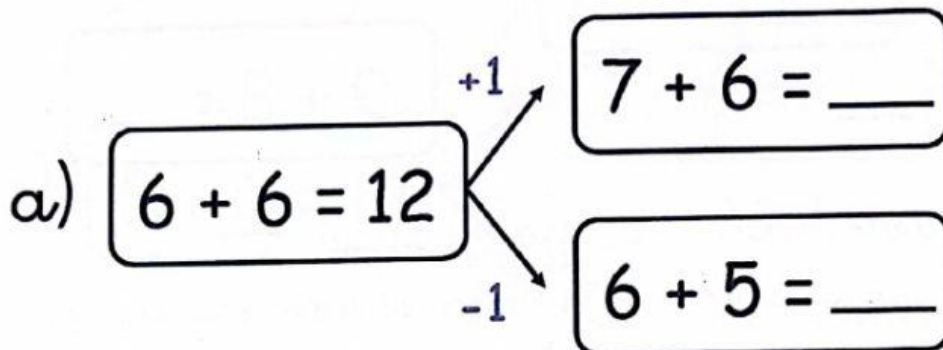
7.- Dobles +1 y dobles -1. —



### Sumas dobles imperfectas

Sumas dobles +1

Sumas dobles -1





# Dobles imperfectos



8.- Dobles +1 y dobles -1. —

a)  $8 + 8 = 16$   $\begin{matrix} +1 \\ -1 \end{matrix}$

$9 + 8 = \underline{\quad}$

$8 + 7 = \underline{\quad}$

b)  $9 + 9 = 18$   $\begin{matrix} +1 \\ -1 \end{matrix}$

$10 + 9 = \underline{\quad}$

$9 + 8 = \underline{\quad}$

9.- Sumas dobles imperfectas. —

Establecer relaciones con cálculos ya aprendidos para desarrollar el cálculo mental.

a)  $7 + 6 = \underline{\quad}$

d)  $6 + 5 = \underline{\quad}$

b)  $8 + 7 = \underline{\quad}$

e)  $5 + 4 = \underline{\quad}$

c)  $9 + 8 = \underline{\quad}$

f)  $6 + 7 = \underline{\quad}$