







LOS CUADRILATEROS

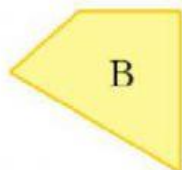
PARALELOGRAMOS		No PARALELOGRAMOS
Cuadrado  4 lados iguales 4 ángulos rectos	Rectángulo  lados iguales dos a dos 4 ángulos rectos	Trapecio  2 lados iguales
Rombo  4 lados iguales ángulos iguales dos a dos	Romboide  lados iguales dos a dos ángulos iguales dos a dos	Trapezoide  No tiene lados paralelos

LOS CUADRILATEROS

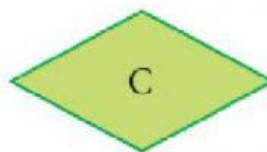
1. Clasificamos los cuadriláteros



A




B

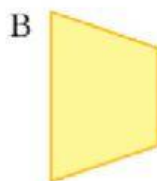


C


2. Clasificamos los cuadriláteros



A



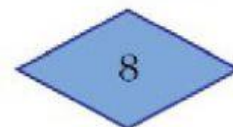
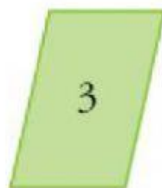

B



C

LOS CUADRILÁTEROS

3. Clasificamos los cuadriláteros



1.	2.
3.	4.
5.	6.
7.	8.