

9

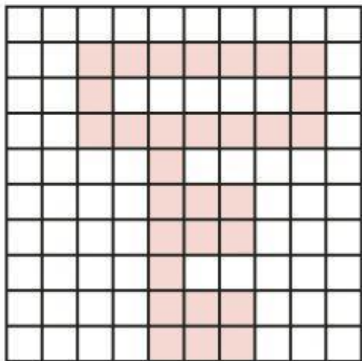
Відсотки

9



1 Заповніть порожні клітинки.

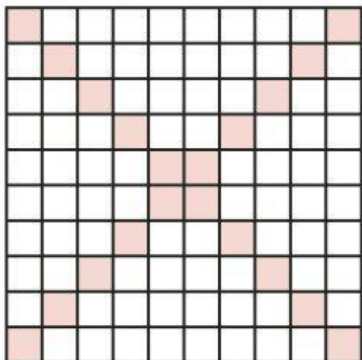
а.



% квадрата зафарбовано.

% квадрата не зафарбовано.

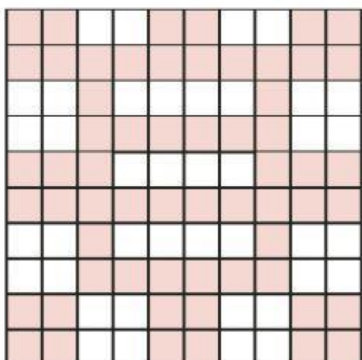
б.



% квадрата зафарбовано.

% квадрата не зафарбовано.

в.



% квадрата зафарбовано.

% квадрата не зафарбовано.

17

**2****Перетворіть у звичайні дроби.****Скоротіть отримані дроби, якщо це можливо.**

а. $89\% =$

б. $11\% =$

в. $17\% =$

г. $28\% =$

д. $36\% =$

е. $45\% =$

є. $67\% =$

ж. $73\% =$

з. $85\% =$

**3****Заповніть таблицю.**

	Відсоток	Звичайний дріб	Скорочений дріб
а.	10%		
б.	25%		
в.	50%		
г.	60%		
д.	15%		
е.	35%		
є.	48%		
ж.	81%		
з.	95%		
і.	100%		



5 Заповніть таблицю.

	Звичайний дріб	Обчислення	Відсоток
а.	0,5		
б.	0,08		
в.	0,75		
г.	0,24		
д.	0,9		
е.	0,05		
є.	1		
ж.			37%
з.			20%
і.			7%
й.			75%
ї.			90%



6 Знайдіть:

9

а. 12% від 200

б. 30% від 64

в. 45% від 400



г. 24% від 75

д. 240% від 300

е. 62% від 145



7 Зафарбуйте 60% кожної фігури.



8 Знайдіть число, якщо:

а. його 5% це 35

б. його 8% це 400

в. його 40% це 120

г. його 150% це 64

д. його 90% це 360