



















**SERIE I**

Convierte los siguientes números mayas en números decimales, Utiliza tu cuaderno para realizar la operación. Coloca los resultados de cada operación en el espacio amarillo y luego suma los totales y colócalo en el espacio verde.



**SERIE II**

Resuelve las siguientes cantidades en números romanos. Debes de colocarlos en números decimales.

1. DCCLXXII

2. MMCMXCIX

3. CDXLIV

4. MCCCXLIV

5. CXXXVI

**SERIE III**

Observa las siguientes cantidades, el número que se encuentra en Rojo es el que debes de aproximar (Recuerda la regla al momento de aproximar) y escribe la cantidad correcta en el recuadro rosado.

1560

1600 2000

2932

3000 2900

6386

6380 6390