

PRUEBA DE DIAGNÓSTICO TERCERO BÁSICO

Nombre: _____ Fecha: _____

1. Escribe las siguientes cantidades en letras.

78

15

59

2. Dictado de cantidades



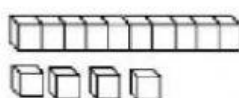






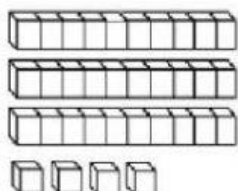


3. Escribe la cantidad que se forma



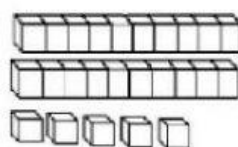
D	U

$$\boxed{10} + \boxed{4} = \boxed{14}$$



D	U

$$\boxed{} + \boxed{} = \boxed{}$$



D	U

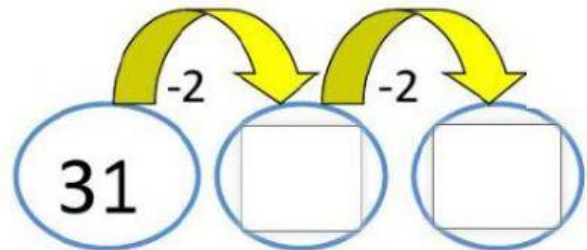
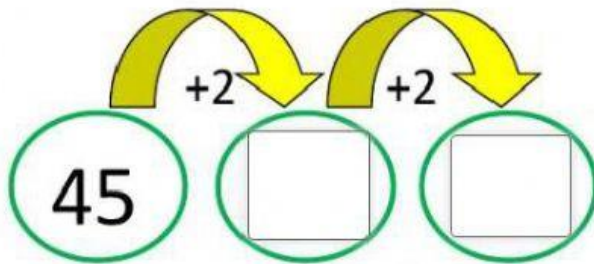
$$\boxed{} + \boxed{} = \boxed{}$$

4. Realiza las siguientes operaciones

$$\begin{array}{r} + 34 \\ 43 \\ \hline \end{array}$$

$$\begin{array}{r} 87 \\ - 85 \\ \hline \end{array}$$

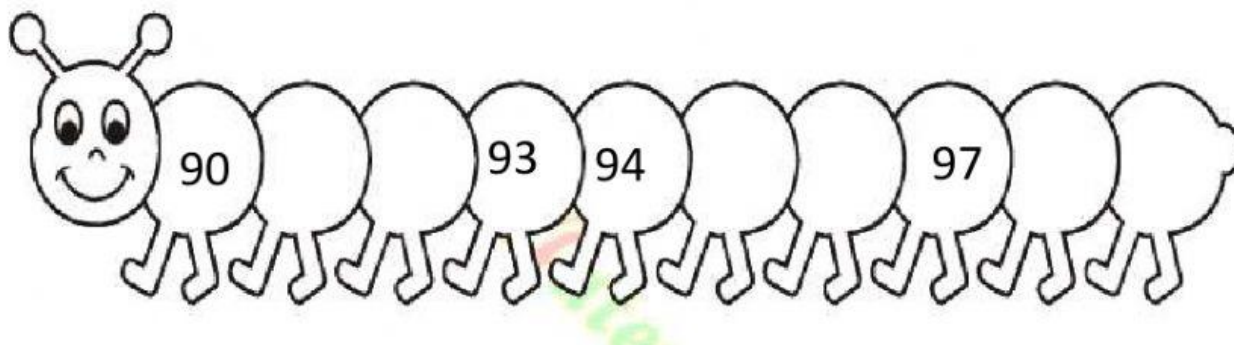
5.- Completa la secuencia con los patrones establecidos.




6.- Escribe el número anterior o posterior.



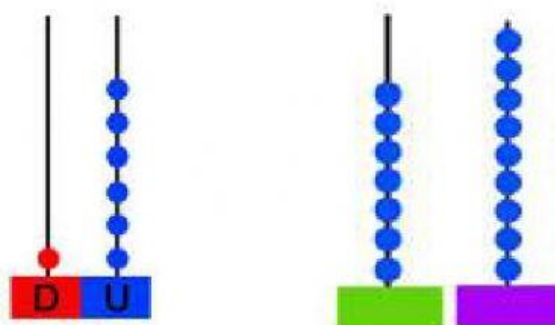
7.- Completa la secuencia.



8.- Completa la serie



9.- Observa y escribe el número que representa el ábaco.



10.- Compara las cantidades y coloca el signo que corresponde.

