

Họ và tên: _____



PHIẾU ÔN TUẦN 28

MÔN TOÁN



Thử thách 1: Sắp xếp những vật sau vào nhóm thích hợp.



Vật có hình dạng khối trụ

--	--	--

Vật có hình dạng khối cầu

--	--	--



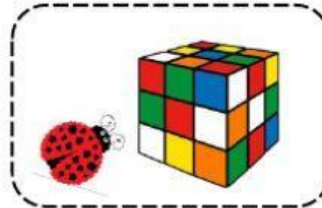

Thử thách 2: Điền từ còn thiếu vào các ô trống dưới đây.

khối cầu

khối lập phương

khối trụ

khối hộp chữ nhật

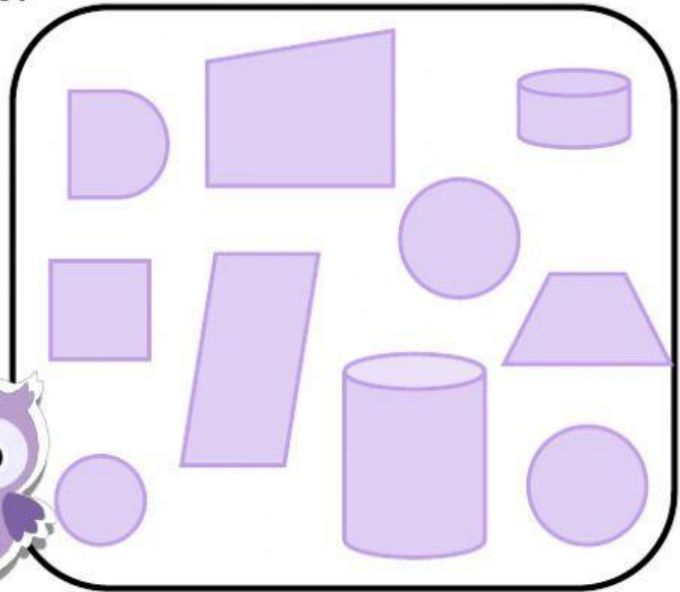


- ♥ Chú mèo vàng đang đứng cạnh cuộn len hình _____
- ♥ Thỏ Con đang đứng cạnh những khúc gỗ hình _____
- ♥ Con bọ rùa đang bò đến gần hối rubik có hình _____
- ♥ Những chú cá đang bơi trong bể cá hình _____



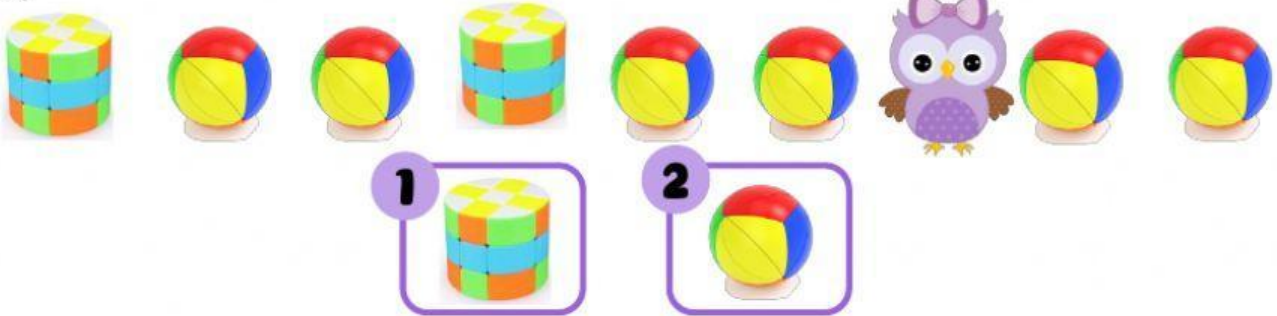
Thử thách 3: Ai tinh mắt?

- Có khối gỗ hình tứ giác
- Có khối gỗ hình khối cầu
- Có khối gỗ hình khối trụ



Thử thách 4: Bạn cú mèo đang che đi hình nào?

a)



b)



Các bạn nhỏ ơi!

Các bạn hãy tìm xem xung quanh chúng ta có những đồ vật nào hình khối cầu, khối trụ nữa nhé!

