

LATIHAN US IPS SDN DEPOK 2

NAMA SISWA :


NOMOR UJIAN :

Prediksi 2 Ilmu Pengetahuan Sosial

Mata Pelajaran : Ilmu Pengetahuan Sosial
Alokasi Waktu : 120 Menit
Jumlah Soal : 50 Butir
Bentuk Soal : 45 Pilihan Ganda dan 5 Uraian

i. Berilah tanda silang (x) pada salah satu huruf a, b, c, atau d di depan jawaban yang paling tepat!

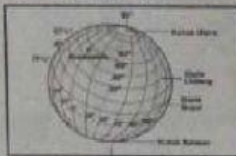
1. Perhatikan gambar berikut dengan seksama!



Huruf (a) dan (d) pada legenda peta di atas mempunyai arti ...

- a. laut dan danau
- b. gunung dan rawa
- c. rawa dan danau
- d. laut dan danau

2. Perhatikan gambar berikut!



Komponen peta yang ditunjuk anak panah sesuai dengan gambar di atas adalah ...

- a. skala peta
- b. mata angin
- c. legenda peta
- d. garis astronomis

3. Permukaan bumi berupa cekungan di darat yang sangat luas dan digenangi oleh air yang dikelilingi daratan disebut ...

- a. laut
- b. danau
- c. rawa
- d. sungai

4. Perhatikan pernyataan berikut!

- 1) Terjadi di musim hujan
- 2) Disebabkan karenan struktur tanah yang lemah
- 3) Dapat memutus jalan yang menghubungkan beberapa daerah
- 4) Dibutuhkan alat-alat berat untuk evakuasi

Peristiwa alam yang terjadi sesuai dengan data di atas adalah ...

- a. tanah longsor
- b. gempa bumi
- c. gunung meletus
- d. kebakaran hutan

5. Kegiatan ekonomi melalui usaha dalam bentuk pelayanan terhadap konsumen yaitu

- a. peternakan
- b. pertanian
- c. industri
- d. jasa

6. Perhatikan tabel berikut!

No.	Nama Barang
1.	Aspal
2.	Batubara
3.	Premium
4.	Intan
5.	Kerosin

Dari tabel di atas merupakan hasil olahan minyak bumi ditunjukkan nomor

- a. 1, 2, 3
- b. 1, 3, 4
- c. 1, 3, 5
- d. 1, 4, 5

7. Perhatikan pernyataan di bawah ini!

- 1) Corat-coret di tempat dan benda bersejarah yang kita kunjungi.
- 2) Merawat dan menjaga kebersihan tempat bersejarah yang kita kunjungi.
- 3) Mengoleksi benda-benda bersejarah secara pribadi.
- 4) Menjaga keamanan tempat bersejarah yang kita kunjungi.

Pernyataan di atas, contoh-contoh sikap cara menghargai peninggalan sejarah yaitu

- a. 2) dan 3)
- b. 2) dan 4)
- c. 1) dan 2)
- d. 1) dan 4)

8. Candi Borobudur dan Candi Prambanan dibangun oleh ...

- a. dinasti syailendra dan rakai pikatan
- b. rakai pikatan dan dinasti syailendra
- c. rakai pikatan dan rorojonggrang
- d. sultan agung honyokrokusumo dan bandung bondowoso

9. Di masa kini, alat komunikasi sudah semakin canggih dan berkembang. Dimasa lalu, masyarakat menggunakan ... untuk memberitahukan tanda bahaya kepada penduduk.

- a. lesung
- b. bedug
- c. kentongan
- d. sirine

10. Perhatikan gambar berikut!



Gambar di atas merupakan teknologi masa lalu yang berguna untuk

- a. mencetak foto
 - b. menyampaikan pesan
 - c. menjahit baju
 - d. memutar film
11. Manfaat investasi asing bagi pemerintah Indonesia adalah
- a. meningkatkan hubungan antarnegara
 - b. untuk menjalankan roda perekonomian Indonesia
 - c. kebutuhan setiap negara terpenuhi
 - d. mendorong kemajuan IPTEK
12. Perhatikan tabel masalah sosial dan dampaknya berikut!

Masalah Sosial	Dampak
1. Kemiskinan dan pengangguran	1. Putus sekolah
2. Kependudukan	2. Lapangan kerja banyak
3. Pencemaran lingkungan	3. Banjir
4. Perilaku tidak disiplin	4. Kenakalan remaja

Pasangan tepat antara masalah sosial dengan dampak yang timbul adalah

- a. 2 dengan 1
 - b. 3 dengan 1
 - c. 4 dengan 2
 - d. 4 dengan 1
13. Perhatikan gambar masalah sosial berikut!



Upaya tepat untuk menanggulangi masalah sosial tersebut adalah

- a. membatasi pertumbuhan penduduk
- b. peningkatan gizi masyarakat
- c. peningkatan kesejahteraan rakyat
- d. mengembangkan pendidikan karakter

14. Perhatikan gambar berikut!



Gambar pakaian adat di atas berasal dari provinsi

- a. Jawa Timur
 - b. Daerah Istimewa Jogjakarta
 - c. Jawa Barat
 - d. Jawa Tengah
15. Toleransi adalah salah satu cara menghargai keragaman. Contoh lain menghargai keragaman, kecuali
- a. menjadikan keberagaman sebagai kekurangan bukan kekayaan
 - b. mempelajari dan menikmati kebudayaan daerah lain
 - c. menjadikan keberagaman sebagai kekayaan bukan kekurangan
 - d. mempelajari untuk mencari kelemahan kebudayaan daerah lain
16. Eksplorasi minyak dan gas (migas) merupakan kegiatan ekonomi bidang
- a. perdagangan
 - b. perindustria
 - c. pertambangan
 - d. perkebunan
17. Home industri adalah jenis usaha yang dikelola oleh
- a. perusahaan
 - b. perorangan
 - c. kelompok
 - d. koperasi
18. Perhatikan gambar!



Gambar di atas merupakan salah satu peninggalan sejarah

- a. bercorak Budha, dibuat oleh dinasti Syailendra
- b. bercorak Hindhu, dibuat oleh dinasti Sanjaya
- c. bercorak Budha, dibuat oleh dinasti Sanjaya
- d. bercorak Hindhu, dibuat oleh dinasti Syailendra

19. Kegiatan sehari-hari yang menunjukkan aktivitas produksi, yaitu
- ayah membaca koran
 - ibu menjahit baju
 - kakak memasak di dapur
 - adik bermain layang-layang
20. Perhatikan tabel!

No.	Nama Raja	No.	Nama Kerajaan
1.	Mulawarman	1.	Majapahit
2.	Aswawarman	2.	Kutai
3.	Raden Patah	3.	Demak
4.	Sultan T	4.	Sriwijaya

Kerajaan 2 dan 3 mencapai puncak kejayaannya dipimpin raja nomor

- 1 dan 4
- 1 dan 3
- 2 dan 3
- 2 dan 4

21. Perhatikan peta berikut!



Pada peta tersebut nomor (5) masuk pembagian waktu

- WIT
 - WITA
 - WIB
 - Greenwich
22. Sebab jatuhnya Nusantara ke dalam kekuasaan Belanda, kecuali
- belum adanya persatuan dan kesatuan
 - bangsa Indonesia mudah diadu domba Belanda
 - perjuangan masih bersifat kedaerahan
 - belum ada Sumpah Pemuda
23. Keputusan penting Kongres Pemuda II tanggal 28 Oktober 1928 ...
- Ikrar Sumpah Pemuda
 - Menetapkan lagu Indonesia Raya ciptaan WR Supratman sebagai lagu kebangsaan.
 - Menetapkan bendera merah putih sebagai lambang negara
 - Menetapkan Indonesia merdeka

24. Tokoh pejuang melawan Belanda dalam perang Banjar di Kalimantan Selatan adalah




25. Perhatikan tabel berikut!

1.	Ahmad Subardjo
2.	Laksemana Maeda
3.	BM. Diah
4.	Sayuti Melik
5.	Moh Hatta

Dari tabel di atas, nama tokoh yang berjasa mengetik dan menyebarkan naskah proklamasi ditunjukkan oleh nomor

- 4 dan 5
 - 3 dan 4
 - 1 dan 2
 - 4 dan 3
26. Perhatikan gambar berikut!



Tokoh-tokoh di atas berperan dalam mempersiapkan kemerdekaan Indonesia adalah


- A, B, C
 - A, B, D
 - A, C, D
 - B, C, D
27. Peran/jasa tokoh dalam Proklamasi
- Merumuskan dasar negara
 - Merumuskan teks Proklamasi
 - Menjahit bendera merah putih
 - Pengibar bendera
- Peran tokoh Latif Hendraningrat dan Suhud ditunjukkan nomor
- 4
 - 3 dan 4
 - 2
 - 1 dan 3

28. Pernyataan berikut ini yang tidak sesuai peran tokohnya adalah
- Soekarno yang membacakan teks proklamasi
 - Sukarni dan Latief Hendraningrat pengibar sang merah putih
 - Ibu Fatmawati penjahit bendera merah putih
 - Laksamana Maeda menyediakan tempat untuk perumusan proklamasi

29. Sebagai seorang pelajar, hal yang dapat dilakukan untuk mengisi kemerdekaan adalah
- belajar dengan giat, berprestasi di sekolah, dan tidak melakukan perbuatan yang tidak terpuji
 - mengenang jasa-jasa mereka, dengan melakukan ziarah ke makamnya setiap hari
 - melanjutkan perjuangan mereka dengan bercita-cita menjadi tentara
 - menyantuni keturunan para pahlawan yang masih ada setiap hari

30. Presiden Sellapan Rhamanatan memimpin sebuah negara yang memiliki pelabuhan transit teramai di Asia Tenggara, lagu kebangsaan tersebut adalah
- Negaraku
 - Majulah Singapura
 - Ailah Peliharalah Sultan
 - Lupang Hinirang

31. Perhatikan gambar berikut!



Gambar di atas patung raksasa Laykun Setkyar yang berada di atas bukit Po Kaung di desa Khatakan Taung, Monywa, Myanmar. Patung Laykun Setkyar menjadi lambang ikonik bagi umat Buddha di negara

- Myanmar
- Thailand
- Vietnam
- Laos

32. Presiden Truong Tan Sang memimpin sebuah negara yang beribukota di Hanoi. Lagu kebangsaan negara tersebut adalah
- Our Free Homeland
 - Forward Soldier
 - Our Country
 - Pleng Chard Thai

33. Perilaku yang dapat menyebabkan renggangnya hubungan antarnegara ASEAN adalah
- menangkap ikan di wilayah negara lain
 - ikut mempelajari budaya negara lain
 - pertukaran pelajar antarnegara
 - mengunjungi salah satu negara
34. Perhatikan tabel berikut!

No.	Nama Negara
1.	Jepang
2.	Korea Selatan
3.	Korea Utara
4.	Cina

Negara yang mendapat sebutan Macan Asia ditunjukkan nomor

- 1, 2, dan 3
- 1, 3, dan 4
- 1, 2, dan 4
- 2, 3, dan 4

35. Masyarakat Indonesia senang berobat ke luar negeri karena alasan peralatan kesehatan yang lebih canggih merupakan dampak globalisasi di bidang
- fashion
 - transportasi
 - teknologi
 - komunikasi

36. Perhatikan tabel berikut!

No.	Batas Wilayah
1.	Kanada
2.	Samudra Pasifik
3.	Laut es utara
4.	Meksiko dan Teluk Meksiko
5.	Samudera Pasifik
6.	Laut karibia

Yang merupakan batas wilayah negara Amerika Serikat sebelah utara dan selatan adalah

- 1 dan 4
- 1 dan 6
- 3 dan 4
- 2 dan 5

37. Australia merupakan salah satu negara yang memiliki tambang emas dan batubara. Tambang emas dan batubara di Australia terdapat di
- kalgoorlie, Coolgordie, dan Victoria
 - Victoria dan Perth
 - kalgoorlie, Coolgordie, dan Sydney
 - Victoria dan Sydney

38. Perhatikan gambar berikut!



Nama dan letak keajaiban dunia sesuai dengan gambardi atas adalah

- a. (A) Petra di Jordania dan (B) Masjid Kubah Emas Brunei Darussalam
 - b. (A) Machu Pichu di Peru dan (B) Taj Mahal di India
 - c. (A) Tembok Besar Cina di RRC dan (B) Taj Mahal di India
 - d. (A) Machu Pichu di Peru dan (B) Masjid Kubah Emas di Brunel Darussalam
39. Ikan Piranha dan Ikan Salmon adalah jenis ikan yang hidup di sungai
- a. Mississippi
 - b. Missouri
 - c. Amazon
 - d. Gangga
40. Perhatikan tabel berikut!

No.	Nama Negara	Sebutan
1.	Amerika Serikat	Paman Sam
2.	Thailand	Negeri Kanguru
3.	Belanda	Negeri Kincir Angin
4.	Australia	Negeri Gajah Putih

Dari tabel di atas pasangan nama negara dan sebutannya yang tepat adalah

- a. 1 dan 2
 - b. 2 dan 3
 - c. 3 dan 4
 - d. 1 dan 3
41. Perhatikan pernyataan berikut!
- 1) terjadi di daerah tropis
 - 2) bertemu udara panas dan sejuk
 - 3) udara panas mempunyai massa yang ringan
 - 4) udara panas naik ke atas
- Berdasarkan pernyataan di atas akan terjadi
- a. hujan frontal/konvergen
 - b. hujan zenital/konveksi
 - c. hujan asam
 - d. hujan orografis/relief

42. Dampak yang ditimbulkan dari pemanasan global sangat besar bagi kehidupan di bumi, antara lain

- a. perubahan iklim mudah diketahui
 - b. cuaca menjadi tidak stabil
 - c. hama tanaman semakin meningkat
 - d. berkurangnya pencemaran udara dan tanah
43. Akhir-akhir ini Gunung Bromo sering mengeluarkan letusan-letusan kecil. Bila kamu berada di lingkungan dekat gunung tersebut, untuk menghindari terjadinya bencana sebaiknya tindakan yang harus dilakukan adalah

- a. lari menuju ke sungai menghindari awan panas
- b. mencari pengungsian yang aman
- c. segera bersembunyi ke dalam rumah
- d. berendam di sumber mata air terdekat

44. BMW, Opel, dan Mercedes adalah merk mobil buatan negara

- a. Jepang
- b. Amerika
- c. Korea Selatan
- d. Jerman

45. Perhatikan pernyataan di bawah ini!

- 1) Melakukan tebang pilih
- 2) Pendangkalan sungai oleh erosi
- 3) Melakukan penanaman hutan kembali
- 4) Pemukiman liar di bantaran sungai

Pernyataan di atas, yang merupakan penyebab terjadinya bencana banjir ditunjukkan nomor

- a. 1 dan 2
- b. 2 dan 3
- c. 3 dan 4
- d. 2 dan 4

II. Jawablah pertanyaan-pertanyaan berikut