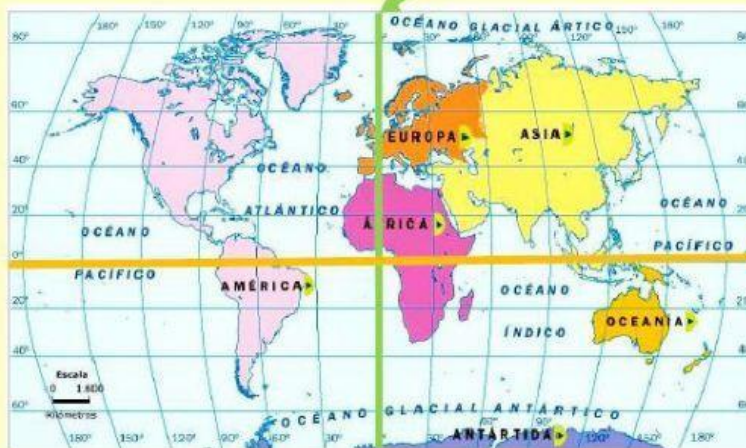


Test de conocimiento – C. Naturales

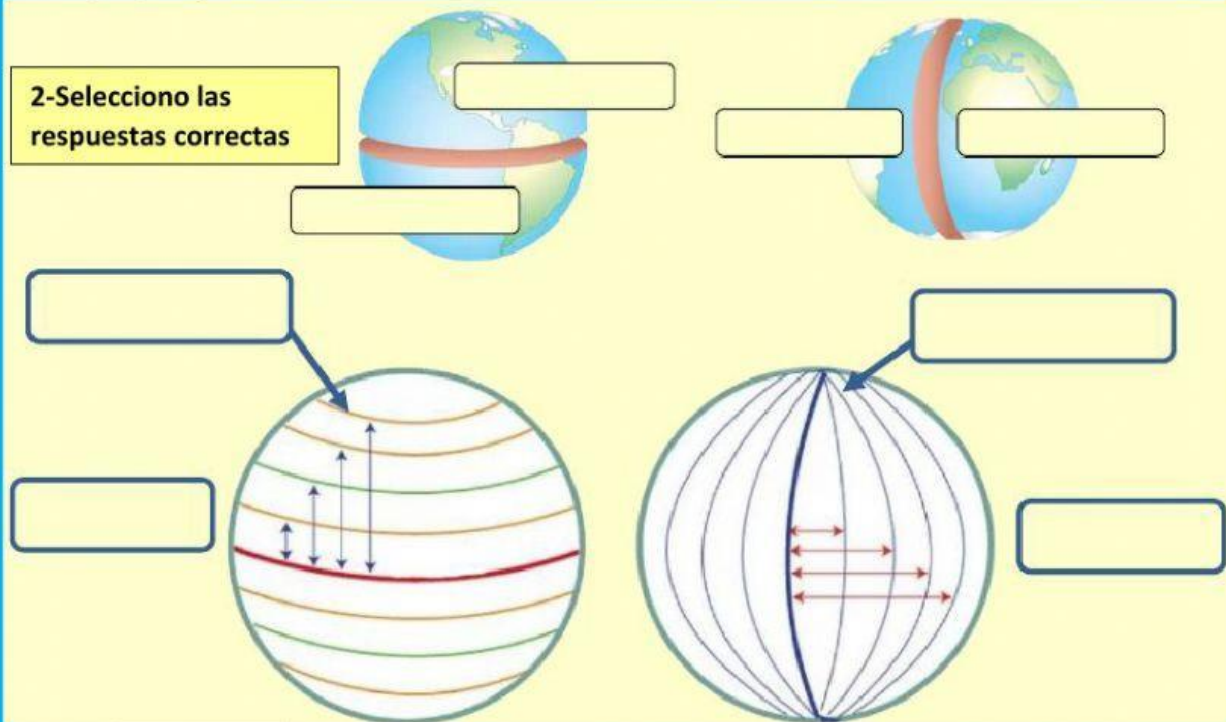
“La Tierra: su forma y tamaño”

Paralelos y meridianos. Latitud y longitud

1. Selecciona la respuesta correcta.



2-Selecciono las respuestas correctas



3. La forma de la Tierra (Uno con flechas)

Qué significa

CUASI-ESFÉRICA

QUE NO LLEGA A SER UNA ESFERA PERFECTA

QUE LLEGA A SER UNA ESFERA PERFECTA



4-(UNE CON FLECHAS) Leé la siguiente definición y luego señala con una flecha cuál de las imágenes te parece que cumple con esa condición:

GEOIDE

“Es la forma que tiene nuestro planeta Tierra y significa que tiene un ligero “achataamiento” en los polos y “ensanchada” en su parte media, sobre la Línea del ecuador”



5- Completo las oraciones (en letra IMPRENTA MAYÚSCULA) acerca de las mediciones y comparaciones que realizó el filósofo y pensador griego Eratóstenes, con los cálculos que se realizaron posteriormente.

- ERATÓSTENES, pensó que una vuelta completa alrededor de La Tierra (circunferencia terrestre) podría tener una _____ de _____ kilómetros.
- Para poder entender entonces esa distancia, podríamos tomar _____  como ejemplo, y pensar que si mide de largo _____ metros, cabrían alineados (uno detrás del otro) unos _____ automóviles. 
- La Tierra no es _____ en su superficie, tiene formas _____ como las _____ y los fondos _____.