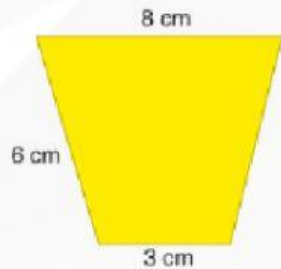


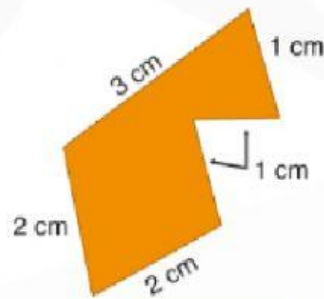
ACTIVIDAD INTERACTIVA

Perímetro

Calcula el perímetro de las siguientes figuras. Luego, arrastra el perímetro de cada figura al sitio correspondiente.







$P = 23 \text{ cm}$

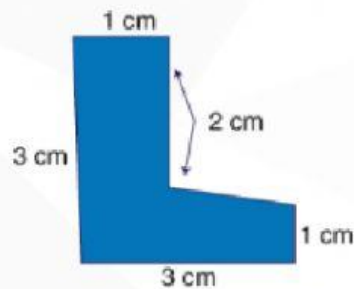
$P = 10 \text{ cm}$

$P = 12 \text{ cm}$

$P = 15 \text{ cm}$

$P = 20 \text{ cm}$





PEQUEÑOS GRANDES GESTOS QUE AYUDAN AL PLANETA



**APROVECHA LA
LUZ NATURAL.**



RECICLA



**LLEVA TUS PROPIAS
BOLSAS DE LA
COMPRAS**