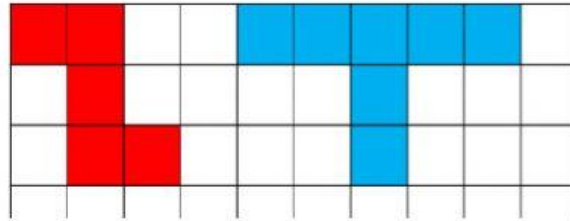


AREAS Y PERIMETROS

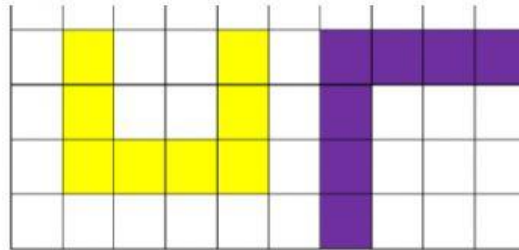
OBSERVE LAS FIGURAS Y CONTESTE LAS PREGUNTAS

PRIMER GRADO 26 DE ABRIL DE 2022



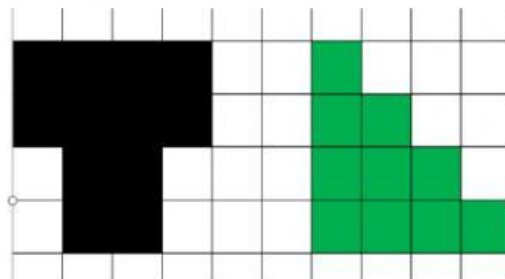
La figura roja tiene unidades cuadradas

La figura azul tiene unidades cuadradas



La figura amarilla tiene unidades cuadradas

La figura morada tiene unidades cuadradas



La figura negra tiene unidades cuadradas

La figura verde tiene unidades cuadradas