






0 1 2 3 4 5 6 7 8 9 10 11 12 13 14 15 16 17 18 19 20



I count and write how many tens. I count and write how many ones. I calculate how many there are in total.



أعد العشرات، وأكتب عددها، ثم أعد
الآحاد، وأكتب عددها. أحسب المجموع
وأكتب الناتج.

العشرات tens	الآحاد ones
	
1	3
13	

العشرات tens	الآحاد ones
	

العشرات tens	الآحاد ones
	

العشرات tens	الآحاد ones
	

العشرات tens	الآحاد ones
	

العشرات tens	الآحاد ones
