

LAS HORAS




Nombre:

1


Une las horas de los relojes.



LAS OCHO
Y CINCO



LAS ONCE
MENOS
CUARTO



LAS DOCE
MENOS
VENTICINCO



LAS TRES
Y MEDIA



LAS DIEZ
Y VEINTE

2

Marca la hora en los relojes digitales y escribe:



5 : 45



:



:

Las seis menos cuarto.



:



:



:




:



:



:



ditypiscobar.es

3

Escribe cada letra donde corresponda.















4


Calcula el tiempo que ha transcurrido:

Los miércoles voy a clase de inglés de 6 a 8 de la tarde.
¿Cuánto tiempo dura la clase?
Marca la hora de inicio y el final de clase.



Respuesta:

El partido de fútbol empezó a las 5 de la tarde y acabó 2 horas más tarde.
¿A qué hora acabó el partido?
Marca la hora de inicio y el final del partido.



Respuesta: