



THỰC HIỆN PHÉP TÍNH

BÀI TẬP TỰ LUYỆN

1. Tính nhẩm: $200 + 500 - 300 = \dots\dots\dots$

2. Kết quả phép tính $240 - 120 + 360$ là:

A. 120

B. 360

C. 480

D. 490

3. Viết phép tính rồi tìm kết quả: 34 cộng với 9 rồi trừ đi 15.

.....

4. Chọn kết quả của phép tính $24 - 8 + 100$.

A. 16

B. 226

C. 116

D. 121

5. Số hạng thứ nhất là 56, số hạng thứ hai là 176, số hạng thứ ba là 356. Tổng là:

6. $7 + 9 + 13 + 15 + 25 + 31 = \dots\dots\dots$

7. Kết quả tính nào dưới đây bằng 250 ?

A. $150 + 446 - 246$

B. $250 - 656 + 656$

C. $565 + 90 - 335$

D. $970 - 850 + 150$

8. Chọn số cần điền thay cho dấu ?.



A. 167

B. 157

C. 158

D. 175

9. Hải đang đọc quyển truyện có 176 trang. Buổi chiều bạn ấy đọc được 45 trang, buổi tối bạn ấy đọc thêm 56 trang nữa. Hỏi còn bao nhiêu trang sách Hải chưa đọc ?

A. 101 trang.

B. 76 trang.

C. 75 trang.

D. 65 trang.

10. Trên tia số, từ vị trí số 135, tiến lên 53 bước rồi lùi lại 36 bước thì đến vị trí số nào ?

A. 152.

B. 155.

C. 153.

D. 224.

Phần tự luận

1. Viết phép tính tương ứng với hình vẽ (theo mẫu).






 +  -  = $200 + 150 - 100 = 250$

 +  -  =




 +  +  =

 -  +  =

2. Nối theo mẫu.

 $14 + 56 - 9$
  $23 - 18 + 45$
  $179 - 182 + 95$

50 92 114 61 75 696

 $59 + 87 - 32$
  $729 - 156 + 123$
  $95 + 45 - 65$

3. Thực hiện phép tính:

a) $20 - 19 + 18 - 17 + 16 - 15 + 14 - 13 + 12 - 11$

.....

b) $3 + 5 + 7 + 9 + 11 + 13 + 15 + 17$

.....

4. Đội 1 trồng được 410 cây, đội 2 trồng được nhiều hơn đội 1 là 60 cây. Hỏi:

a) Đội 2 trồng được bao nhiêu cây ?

b) Cả 2 đội trồng được bao nhiêu cây ?

.....
.....
.....
.....
.....

5. Viết các phép cộng có ba số hạng khác nhau, có tổng là 888 và cả ba số hạng đều là các số có ba chữ số giống nhau.

.....
.....
.....