

Nociones de geometría

Une cada gráfico con el nombre que le corresponde



PUNTO



RAYO

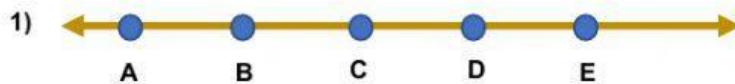


SEGMENTO

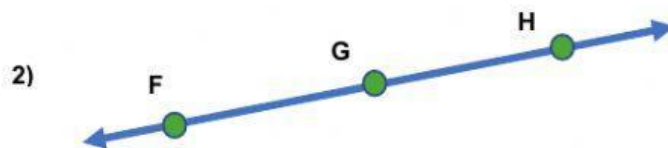


RECTA


¿Cuántos segmentos consecutivos encuentras en cada ejercicio?



Rpta: ____ segmentos



Rpta: ____ segmentos



Rpta: ____ segmentos