

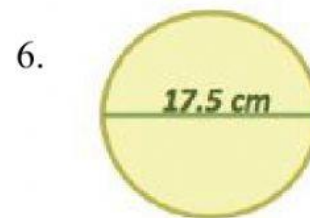
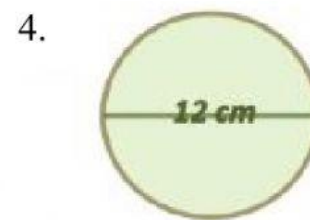
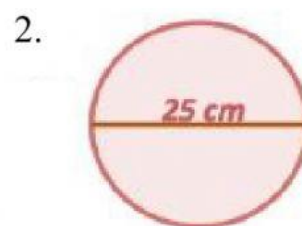
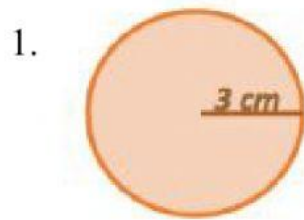
Nombre: _____ Grado y grupo: _____

Fecha: _____ Prof. B. Figueroa Villalba

Tema: La Circunferencia

Utiliza las respuestas que se encuentran debajo de los ejercicios para contestar. Encuentra la respuesta de cada ejercicio y arrastra la misma colocándola debajo del ejercicio al que corresponde. Utiliza 3.14, para sustituir a π (Pi). Redondea de ser necesario

Encontrar la circunferencia



RESPUESTAS:		
28.26 cm	54.95 cm	78.5 cm
37.68 cm	18.84 cm	43.96 cm