


Cuantificadores

1) Escribe V si es verdadero o F si es falso según corresponda.

- Ninguna manzana está en el suelo. ()
- Algunas manzanas están en el árbol. ()
- Alguna manzana está cayendo al suelo. ()



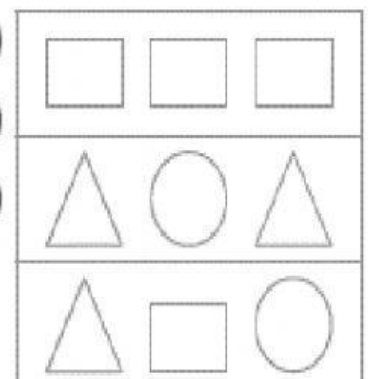
2) Selecciona la alternativa correcta.

- a) Todos son útiles escolares.
- b) Algunos son artefactos electrodomésticos.
- c) Ninguno es un útil escolar.



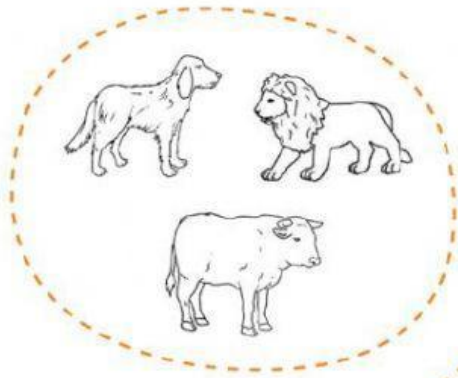


3) De acuerdo con las figuras, **escribe** V si la afirmación es verdadera o F si es falsa.



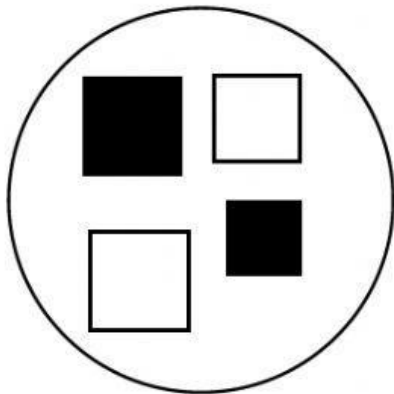
- En la primera fila, todas las figuras son rectángulos. ()
- En la segunda fila, ninguna figura es un triángulo. ()
- En la tercera fila, ninguno es un cuadrado. ()






4) Selecciona el grupo donde NINGUNO de los animales tienen ALAS.



5) Selecciona el grupo donde TODOS son cuadrados y ALGUNOS son plomos.

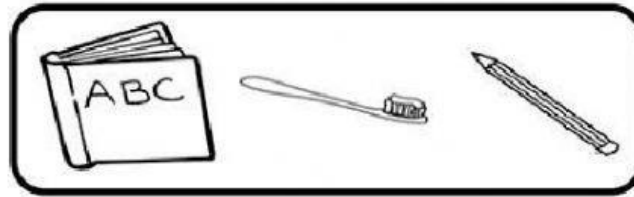


6) Selecciona el grupo donde TODOS son manzanas que tengan el mismo tamaño.

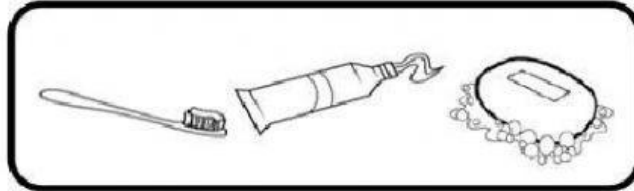


7) Selecciona el grupo donde ALGUNOS son útiles escolares.

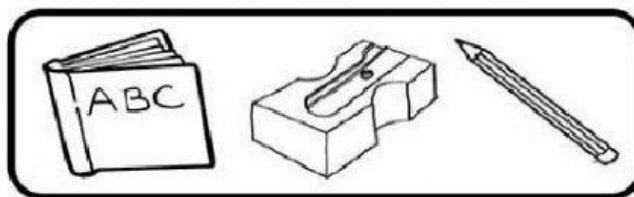
a



b



c



7) Completa el dialogo de Miguel, Urpi y Paco con las palabras del siguiente recuadro.

algunos

todos

ninguno

Yo agrupé los triángulos y rectángulos amarillos.

En mi grupo es un triángulo.

Yo agrupé círculos.

