





Grado: \_\_\_\_\_  
Nº de orden: \_\_\_\_\_


EXAMEN PARCIAL DE CIENCIA	
Nombres y apellidos: _____	
Fecha: JUEVES 21 DE ABRIL	


Nota: _____
-------------

1. Enumera las etapas de la vida y escribe el nombre:















2. Escribe cómo se desplazan los siguientes animales:













3. Dibuja un animal que se desplace con aletas y otro que se desplace con patas.

Se desplace con patas

Se desplace con aletas

4. Ordena las imágenes escribiendo el número del 1 al 5

5. Clasifica los animales de acuerdo a la forma en que se desplazan.



gato



tiburón



león



pulpo



canario



águila

Caminan

:

Nadan

:

Vuelan

:

6. Escribe 3 normas de higiene:

---



---



---

7. Escribe si son ovíparos o vivíparos

8. Marca las imágenes que muestren acciones correctas de aseo

