



PEMERINTAH KABUPATEN GROBOGAN  
DINAS PENDIDIKAN  
SD NEGERI 1 SABAN KEC.GUBUG

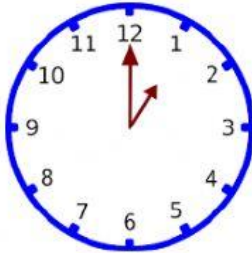
Jl. Tunggu No. 11 Desa Saban Kecamatan Gubug Kabupaten Grobogan 58164



Nama :

Kelas :


Perhatikanlah gambar-gambar jam di bawah ini, lalu isilah titik-titik yang ada dengan jawaban yang tepat.



1. Jarum pendek menunjuk ke arah angka .....

Jarum panjang jam menunjuk ke arah angka ...


Maka gambar jam di atas dibaca ....



2. Jarum pendek menunjuk ke arah angka .....

Jarum panjang jam menunjuk ke arah angka ....

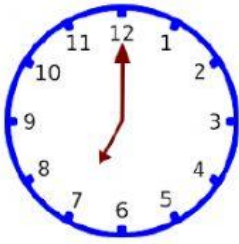
Maka gambar jam di atas dibaca ....



3. Jarum pendek menunjuk ke arah angka .....

Jarum panjang jam menunjuk ke arah angka ....


Maka gambar jam di atas dibaca ....



4. Jarum pendek menunjuk ke arah angka .....

Jarum panjang jam menunjuk ke arah angka ....

Maka gambar jam di atas dibaca ....



5. Jarum pendek menunjuk ke arah angka .....

Jarum panjang jam menunjuk ke arah angka ....

Maka gambar jam di atas dibaca ....

**Pilihlah jawaban pada huruf A, B atau C pada jawaban yang benar!**

6. Jam adalah alat untuk mengukur .....

A. Panjang

B. Berat

C. Waktu

7. Pukul sepuluh tepat jika ditulis angka menjadi .....

A. 10 .10

B. 10.00

C. 01.00

8. Pukul dua belas tepat jika ditulis angka menjadi .....

A. 21.00

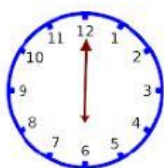
B. 12.00

C. 00.12

**Lihatlah gambar-gambar jam berikut ini !**



Jam A



Jam B

9. Gambar jam A menunjukkan pukul .....

- A. 02.00
- B. 12.00
- C. 00.20

10. Gambar jam B menunjukkan pukul ....

- A. 12.00
- B. 06.06
- C. 06.00