











Hoja de Trabajo

Tema: Formo decenas

Grado: Primero

Nombre del alumno (a): _____

Instrucciones: Cuento y escribo la cantidad con los números.

	D	U	
			___ decena y ___ unidades son ____ . doce
			___ decena y ___ unidades son ____ . trece
			___ decena y ___ unidades son ____ . catorce
			___ decena y ___ unidades son ____ . quince
			___ decena y ___ unidades son ____ . dieciséis
			___ decena y ___ unidades son ____ . diecisiete
			___ decena y ___ unidades son ____ . dieciocho
			___ decena y ___ unidades son ____ . diecinueve