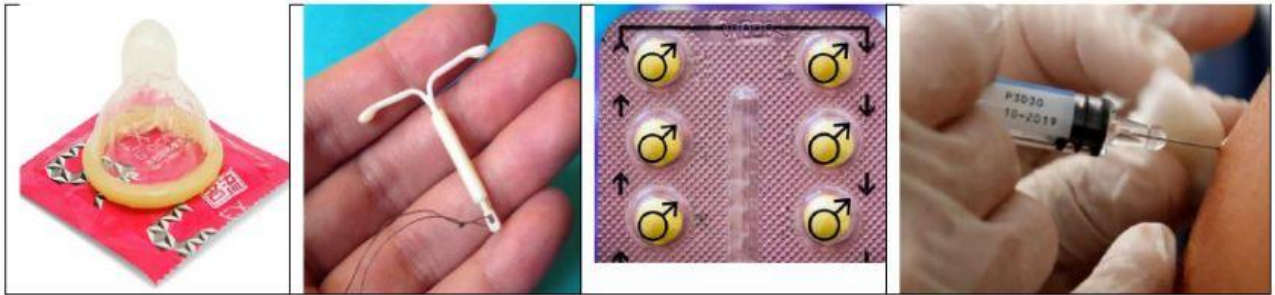


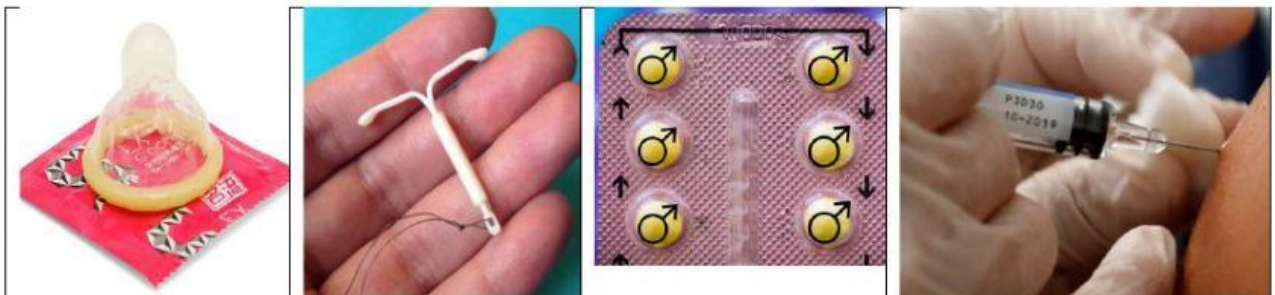
**ACTIVIDAD DE RECUPERACIÓN ACADÉMICA  
NOVENO AÑO DE EDUCACIÓN GENERAL BÁSICA  
TERCER PARCIAL**

**Temas:** Sexualidad – El Universo – Contaminación atmosférica

**1. Seleccione la imagen que corresponde a un método anticonceptivo hormonal inyectable**



**2. Seleccione la imagen que corresponde a un método anticonceptivo que evita las enfermedades de transmisión sexual**



**3. Seleccione la imagen que corresponde a una de las manifestaciones del VPH**



**4. Seleccione los postulados falsos sobre la sexualidad y enfermedades de transmisión sexual**

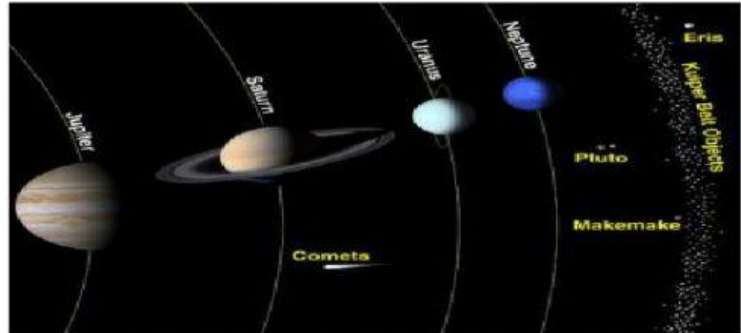
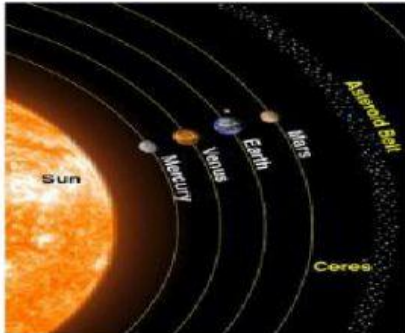
- a) Una mujer no puede quedarse embarazada al tener relaciones sexuales por primera vez sin protección
- b) Una mujer puede quedarse embarazada al tener relaciones sexuales durante la menstruación sin protección
- c) La última menstruación se conoce como menarquía
- d) En la menstruación el sangrado puede durar entre 4 a 7 días
- e) El Virus del papiloma Humano no se puede prevenir con inyecciones
- f) La gonorrea es una enfermedad producida por un virus
- g) El sida se puede contagia por compartir la ropa con una persona infectada

**5. Seleccione los postulados verdaderos sobre el universo y su estructura**

- a) Universo es todo de lo cual nos llega información, es observable y medible.
- b) Los componentes del universo son **H** 75%, **He** 20% y otros **elementos** 5%

- c) El universo posee materia oscura y visible.
- d) La materia oscura tiene la capacidad de producir o reflejar la luz.
- e) La materia visible no tiene la capacidad de reflejar la Luz.
- f) Son ejemplos de materia visible los planetas, estrellas y otros cuerpos celestes.
- g) Los planetas y satélites son capaces de producir luz
- h) Las estrellas nacen en las nebulosas
- i) El combustible de las estrellas son los gases como Hidrógeno y Helio
- j) Las estrellas denominadas enanas blancas se transforman en enanas negras



**6. Seleccione la imagen que corresponde a los planetas rocosos**



**7. Referente a las teorías del origen de las especies, Lamarck manifiesta que los miembros de una población son iguales pero los cambios ambientales obligan a las especies a adaptarse, por lo tanto, a modificar su cuerpo, este postulado se relaciona con:**

- a) Mutación
- b) Impulso interno (voluntad)
- c) Selección natural

**8. Seleccione la imagen que representa al postulado de variabilidad propuesto por Charles Darwin**



**9. Son postulados de la teoría neosintética, excepto**

- a) Caracteres adquiridos
- b) Mutación
- c) Deriva genética

**10. Son riesgos atmosféricos, excepto**

- a) Tormentas eléctricas
- b) Sequías
- c) Sismos