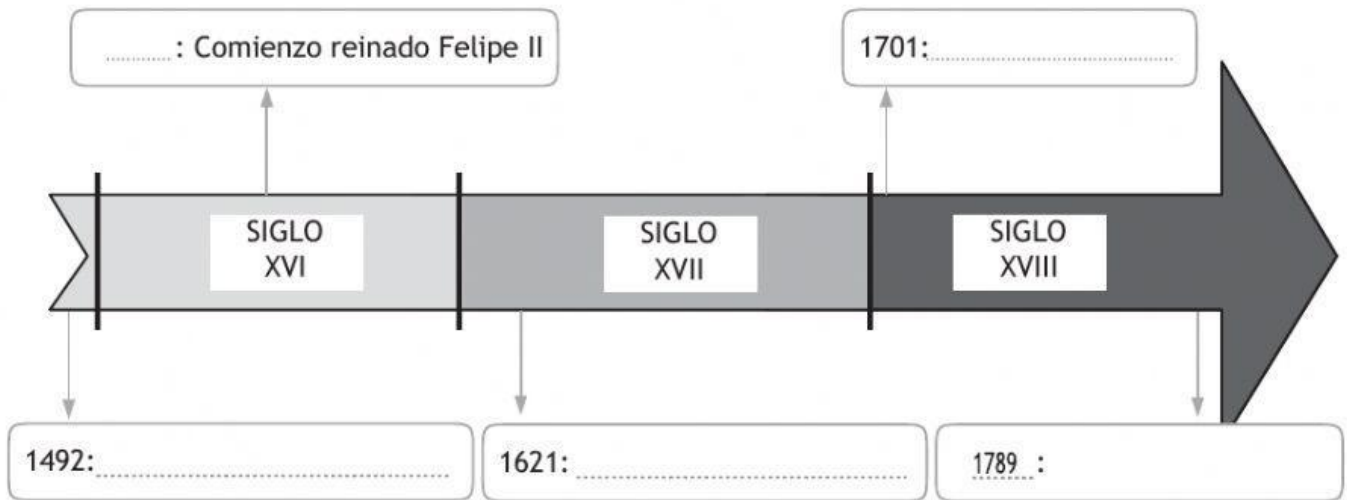
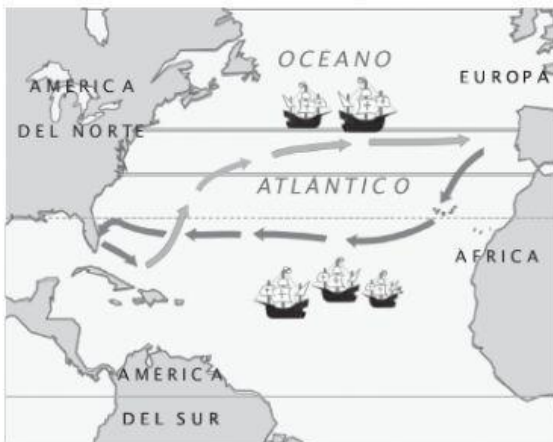


Repasamos La Edad Moderna

- 1 Completa las fechas y acontecimientos de la siguiente línea de tiempo sobre la Edad Moderna.



- 2 Analiza la imagen y responde a las preguntas que se plantean.



- a. ¿Qué acontecimiento histórico aparece reflejado en este mapa?

.....

- b. ¿Quién fue el protagonista de este hecho?

.....

- c. ¿En qué año tuvo lugar este acontecimiento?

.....

- d. ¿Por qué a los habitantes del Nuevo Mundo se les denominó "indios" o "indígenas"?

.....

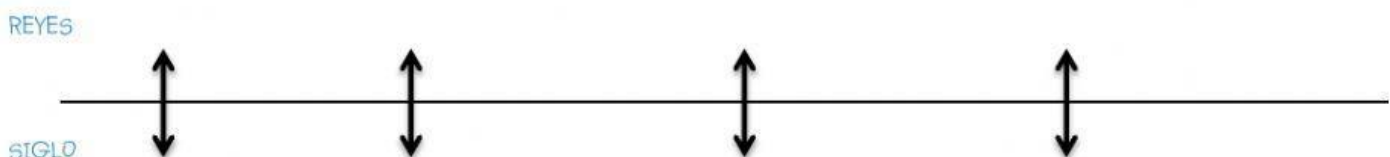
- 3 Ordena de más antiguo a más reciente los siguientes reyes españoles e indica en qué siglo reinaron.

Carlos II

Isabel I

Felipe II

Fernando VI



4 Observa las imágenes y señala a qué rey representa cada una de ellas.



A.

B.

C.

5 Coloca en su lugar los siguientes términos:

Renacimiento

Periodo que ensalza la razón humana como la base del conocimiento e ilumina los misterios del mundo

Ilustración

Periodo en el que la religión tiene gran presencia en la cultura y se inicia la ciencia moderna.

Barroco

Periodo que recupera valores de la cultura y el arte de la antigüedad y defendía el ser humano como centro del universo.

6 ¿Verdadero o falso?

- Los nativos americanos fueron llamados indios porque Colón siempre pensó que había llegado a las Indias
- La Monarquía Hispánica comienza cuando llega la dinastía de los Borbones.
- En la Edad Media los libros eran copias manuscritas que sólo podían comprar los reyes.

VERDADERO

FALSO

VERDADERO

FALSO

VERDADERO

FALSO