

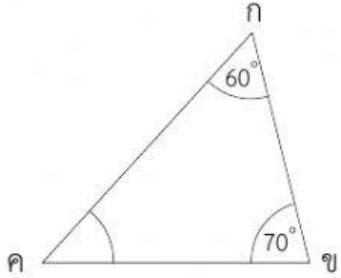
ใบงานที่ 6

เรื่อง มุมภายในของรูปสามเหลี่ยม

คะแนน

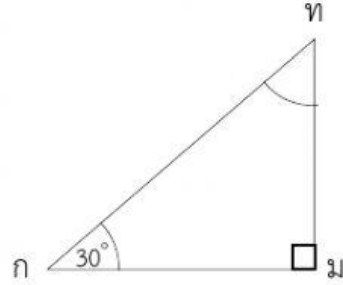
เติมคำตอบ

1.



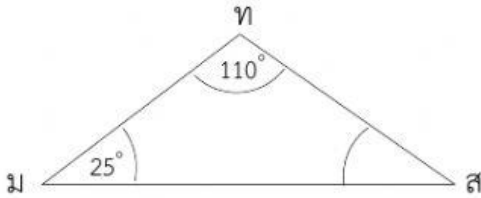
กคิง มีขนาด องศา

2.



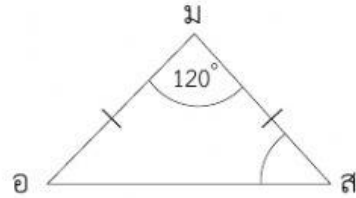
กทิม มีขนาด องศา

3.



มสัท มีขนาด องศา

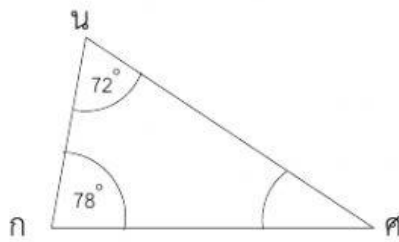
4.



อสิม มีขนาด องศา

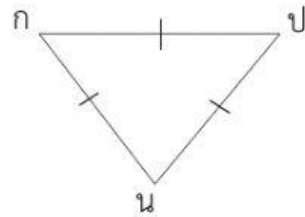
มอัส มีขนาด องศา

5.



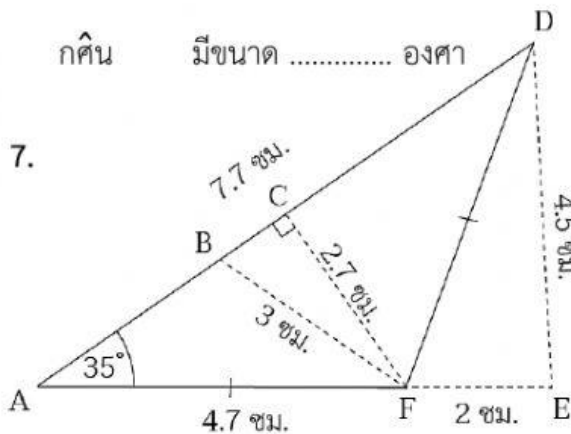
กศิน มีขนาด องศา

6.



กป็น มีขนาด องศา

7.



$\triangle ADF$ มีขนาด องศา

$\triangle CDF$ มีขนาด องศา

$\triangle AFD$ มีขนาด องศา