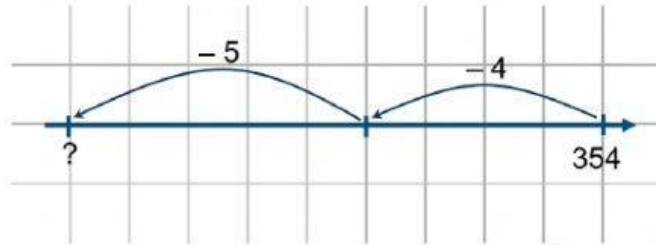


PHÉP TRỪ TRONG PHẠM VI 1000 (có nhớ)

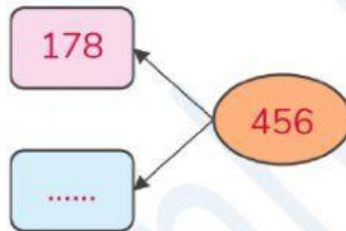
BÀI TẬP TỰ LUYỆN

1. Kết quả của phép tính $354 - 9$ là:



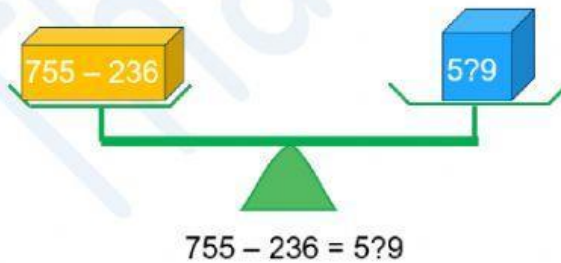
2. Hiệu của 245 và 175 là:

3. Viết số thích hợp đặt vào ô trống.



4. Trong một phép tính có số bị trừ là 589, số trừ là 298. Hiệu là:

5. Chọn chữ số thích hợp thay vào dấu ? để cân thăng bằng.







- A. 1. B. 2. C. 3. D. 4.

6. Trên bảng 1000 số, từ vị trí số 225 cần lùi bao nhiêu bước để về vị trí số 175?

- A. 50 bước. B. 75 bước. C. 15 bước. D. 150 bước.

7.  ăn cà rốt ghi phép tính có kết quả nhỏ nhất.  sẽ ăn củ cà rốt nào ?

- A.  578 - 149 B.  942 - 451 C.  642 - 238 D.  784 - 256

8. Một phép cộng có tổng bằng 783, số hạng thứ nhất là 145. Số hạng thứ hai là:

9. Ở một bảo tàng, ngày thứ 7 có 248 lượt khách đến tham quan, ngày chủ nhật có ít hơn thứ 7 là 50 lượt khách. Hỏi bảo tàng đã đón bao nhiêu lượt khách đến tham quan vào ngày chủ nhật ?

Trả lời:

10. Hai số có hiệu là 525. Nếu bớt số bị trừ đi 75 đơn vị thì hiệu mới là:

Tự luận

1. Tính.

$$\begin{array}{r} 457 \\ - 129 \\ \hline \dots \end{array}$$

$$\begin{array}{r} 248 \\ - 76 \\ \hline \dots \end{array}$$

$$\begin{array}{r} 926 \\ - 151 \\ \hline \dots \end{array}$$

$$\begin{array}{r} 557 \\ - 463 \\ \hline \dots \end{array}$$

2. Nối phép tính với kết quả đúng.



3. Điền số thích hợp vào ô trống.

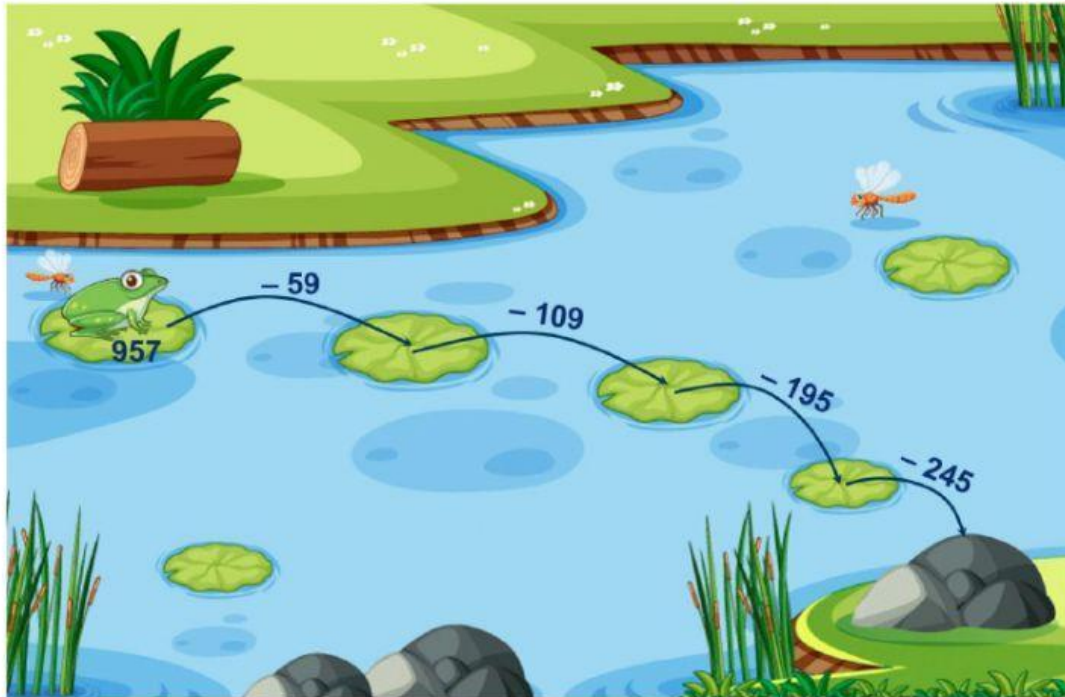
The puzzle grid consists of several interconnected boxes:

- Top left: A vertical column of boxes containing the numbers 324, a plus sign (+), 356, and an equals sign (=).
- Middle left: A horizontal row of boxes containing a minus sign (-), the number 162, an equals sign (=), and an empty box.
- Bottom left: A horizontal row of boxes containing a minus sign (-), the number 221, an equals sign (=), and an empty box.
- Bottom right: A horizontal row of boxes containing a minus sign (-), the number 155, an equals sign (=), and an empty box.

Decorative elements include a hedgehog on the left, a dragonfly in the middle, and flowers at the bottom left.

4.Ếch xanh đang đứng ở lá sen ghi số 957, chú cần nhảy qua các lá sen về đến mỏm đá bằng cách thực hiện đúng các phép tính.

Em hãy viết và tìm kết quả của các phép tính mà ếch xanh cần thực hiện.



.....

.....

.....

.....

5. Trong một chuyến bay Hà Nội – Sài Gòn có 134 hành khách mua vé ghế hạng phổ thông. Số hành khách mua vé ghế hạng thương gia ít hơn hạng phổ thông là 94 ghế. Hỏi có bao nhiêu hành khách mua vé ghế hạng thương gia ?

.....

.....

.....