

Numele și prenumele: _____

Data: _____

EVALUARE SUMATIVĂ

Unități de măsură pt. lungime, capacitate, timp, valoare

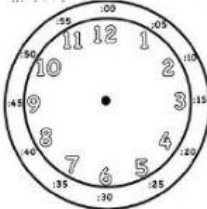
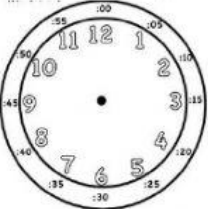
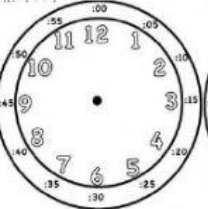
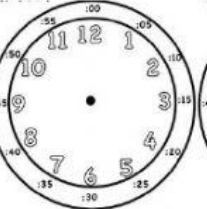
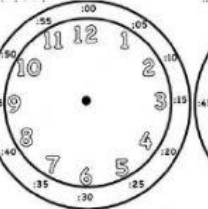
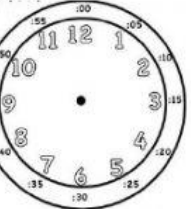
1. În ce exprimăm.....? Unește corespunzător:

capacitatea unei oale	metri	lungimea unui gard
înălțimea unui copac	ore	capacitatea unei cisterne
timpul petrecut la scoala	litri	valoarea unei case
valoarea unui televizor	lei	timpul de spălat pe dinți
capacitatea unei sticle	minute	somnul de noapte

2. Completează :

1 leu= _____ bani	O săptămână= _____ zile
1 litru= _____ ml	O lună= _____ săptămâni
O oră= _____ minute	Un anotimp= _____ luni
Un minut= _____ secunde	

3. Desenează acele ceasurilor pentru a arăta ora scrisă dedesubt.

					
9 și jumătate	20:00	17 și 30 de minute	unu fix	23:30	6:00

4. Desenează:

a) un pătrat cu latura de 2 cm

b) un dreptunghi cu lungimea de 3 cm și lățimea de 1 cm

