

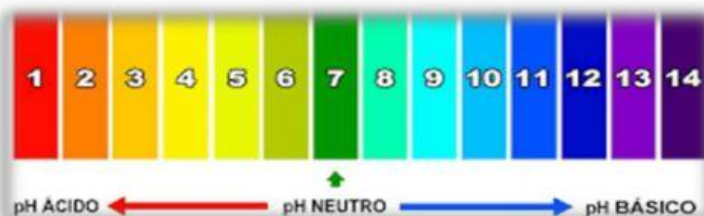
QUIMICA
GRADO NOVENO
ÁCIDOS Y BASES

1. Defina el concepto de un ácido y una base.

ÁCIDO →

BASE →

2. De acuerdo a la escala de pH, determina la acidez o basicidad de lo siguiente:




pH= 4



pH= 8



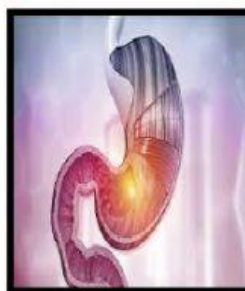
pH= 2



pH=6




pH= 9



pH= 1



pH= 5



pH= 9