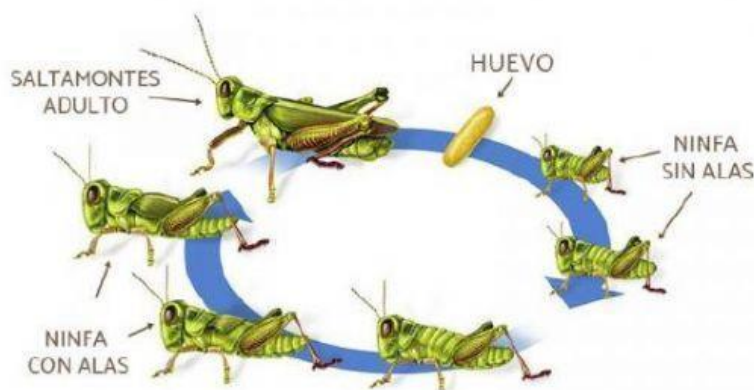


# LOS ARTRÓPODOS


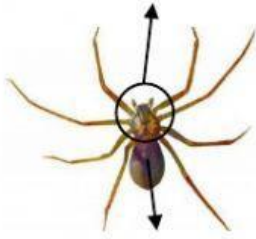
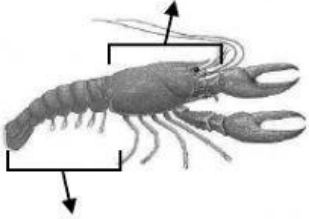

## 1. Completa:

Los artrópodos son animales \_\_\_\_\_ con simetría \_\_\_\_\_. Su cuerpo está dividido en \_\_\_\_\_ y protegido por una coraza rígida, el \_\_\_\_\_. Además, están provistos de apéndices \_\_\_\_\_ (patas, mandíbulas, antenas, etc). Pueden presentar dos tipos de ojos: \_\_\_\_\_ (unas pequeñas lentes) y \_\_\_\_\_ (formados por miles de lentes). Los artrópodos acuáticos respiran por \_\_\_\_\_, y los terrestres, en su mayoría, por \_\_\_\_\_.

## 2. Señala qué tipo de metamorfosis se representa en cada caso:



3. Nombra las partes en que se divide el cuerpo de los siguientes invertebrados y completa la tabla.

CLASE	Segmentos del cuerpo	Patas	Antenas	Alas
				
				
				
				

4. Clasifica los siguientes animales:

