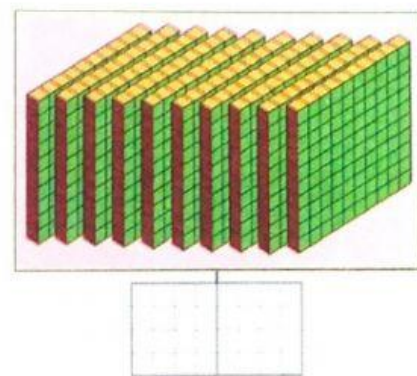
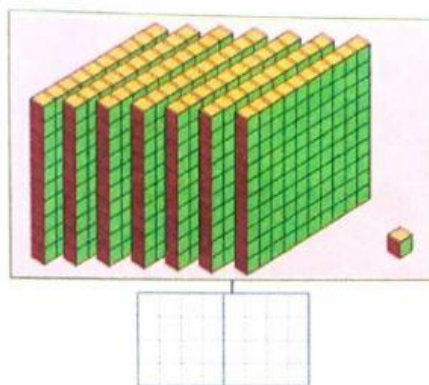
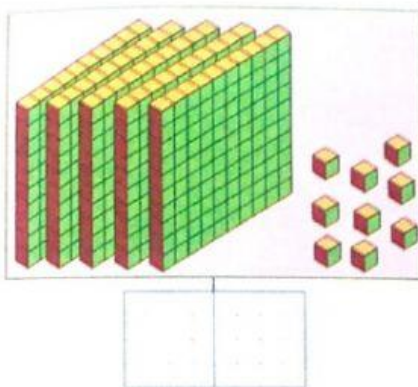
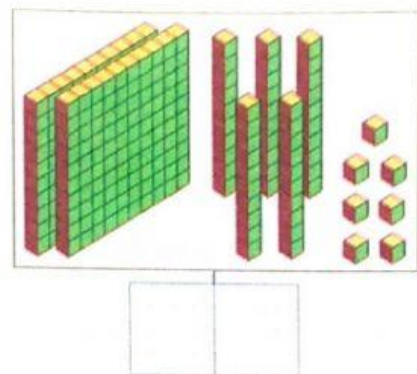
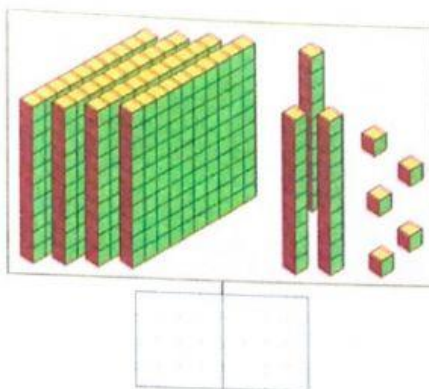
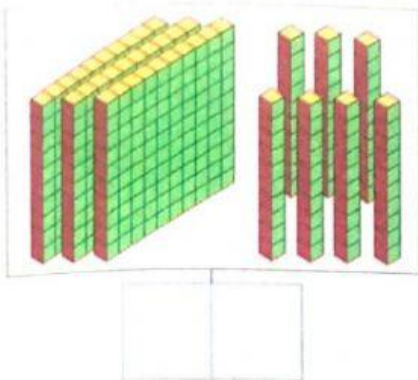



**Bài 1** Số?



**Bài 2** Số?



**Bài 3** Số?

Số liền trước	Số đã cho	Số liền sau
<input style="width: 40px; height: 30px;" type="text"/>	345	<input style="width: 40px; height: 30px;" type="text"/>
<input style="width: 40px; height: 30px;" type="text"/>	200	<input style="width: 40px; height: 30px;" type="text"/>

Số liền trước	Số đã cho	Số liền sau
<input style="width: 40px; height: 30px;" type="text"/>	714	<input style="width: 40px; height: 30px;" type="text"/>
<input style="width: 40px; height: 30px;" type="text"/>	990	<input style="width: 40px; height: 30px;" type="text"/>

Trăm	Chục	Đơn vị	Viết số	Đọc số
4	6	5		
			801	
5	8	1		
				chín trăm tám mươi tư

**Bài 5** Số?

- Số  gồm 5 trăm, 8 chục và 2 đơn vị.
- Số  gồm 9 trăm và 2 đơn vị.

**Bài 6** Viết các số có ba chữ số lập được từ ba thẻ số sau:

3 5 7

2 0 9

1 4 6

**Bài 7** Số?

- a. Bố cho lên xe 100 kg gạo tẻ, 2 chục ki-lô-gam gạo nếp và 5 kg đỗ xanh. Xe của bố chở tất cả là  kg.



- b. Sáng nay, sau khi nhặt trứng từ chuồng gà, mẹ xếp vào vừa đủ 25 hộp. Mỗi hộp có 10 quả trứng. Số trứng gà mẹ nhặt được sáng nay là  quả.

