


## Membaca Grafik dengan Skala

Kelas III

Nama :

1. Anna dan teman sekelasnya memilih karakter dongeng favorit mereka. Grafik gambar berikut ini menunjukkan pilihan mereka.

Karakter Dongeng Favorit



- a** Ada berapa karakter yang ditunjukkan pada grafik gambar?

\_\_\_\_\_

- b** Karakter manakah yang paling populer?

\_\_\_\_\_

- c** Karakter manakah yang paling tidak populer?

\_\_\_\_\_

- d** 8 anak menyukai Peter Pan. Apa yang diwakili oleh setiap  ?

\_\_\_\_\_ anak

Sekarang, isilah bagian yang kosong pada grafik gambar.

- e** Berapa banyak anak yang memilih Cinderella sebagai karakter favoritnya?

\_\_\_\_\_ anak

- f** Berapa lebih banyak anak yang memilih Putri Salju daripada Peter Pan sebagai karakter favoritnya?

\_\_\_\_\_ anak

- g** Jumlah anak yang memilih \_\_\_\_\_ dan \_\_\_\_\_ sebagai karakter favoritnya sama dengan jumlah anak yang memilih Cinderella.

- 2 Grafik gambar berikut ini menunjukkan banyaknya makanan yang dimakan sekelompok anak laki-laki pada hari Sabtu.


**Banyak Makanan yang Dimakan**

Martabak		  
Mie		   
Bakso		 
Lemper		  
Nasi uduk		 
Setiap  mewakili 2 porsi makanan.		



























- a Mereka memakan \_\_\_\_\_ porsi martabak.
- b Mereka memakan \_\_\_\_\_ sejumlah porsi yang sama dengan martabak.
- c Mereka memakan mie \_\_\_\_\_ porsi lebih banyak daripada nasi uduk.
- d Mereka memakan \_\_\_\_\_ porsi bakso dan nasi uduk seluruhnya.






- 3 Rumah Dedi terletak di dekat sekolah, halte bus, pasar, dan kantor pos. Dia menggambar grafik gambar untuk menunjukkan seberapa jauh rumahnya dari tempat-tempat tersebut.



### Jumlah Langkah dari Rumah

Sekolah	         
Pasar	        
Halte bus	
Kantor pos	     
Setiap  mewakili _____ langkah.	

- a Sekolah terletak 100 langkah dari rumah Dedi.  
Setiap  mewakili \_\_\_\_\_ langkah.  
Sekarang, isilah bagian yang kosong pada grafik gambar.
- b Pasar terletak \_\_\_\_\_ langkah dari rumah Dedi.
- c Rumah Dedi letaknya 50 langkah dari halte bus.  
Dia harus menggambar \_\_\_\_\_  pada grafik.
- d Kantor pos letaknya 80 langkah dari rumah Dedi.  
Dia harus menambahkan \_\_\_\_\_  pada grafik.