

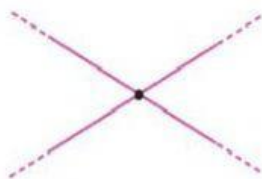


LINEE

1. Guarda la rappresentazione e scrivi se si tratta di: **linea retta, segmento o semiretta**.



2. Abbina la rappresentazione alla sua definizione.



Due rette sono incidenti
perpendicolari se incontrandosi
dividono il piano in quattro
parti uguali.

a

Due rette sono incidenti
se si incontrano
in un punto.

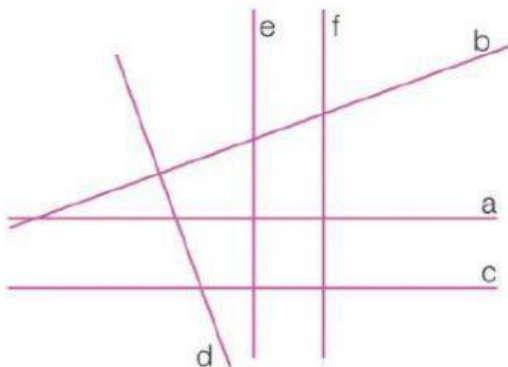
b


Due rette sono parallele
quando non si
incontrano mai.

c

3.

Completa la tabella con una **X** per indicare le rette fra loro perpendicolari.



	a	b	c	d	e	f
a					X	
b						
c						
d						
e						
f						