



# Razonamiento Matemático

Nombres y Apellidos : .....

Fecha : .....

Grado : 2do

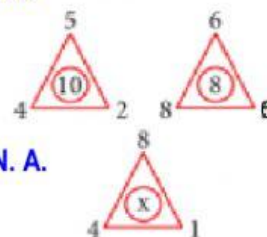
Nivel : Secundaria

Curso : Raz. Matemático

1) ¿Qué parentesco tiene conmigo una mujer que es la hija de la esposa del único hijo de mi madre?

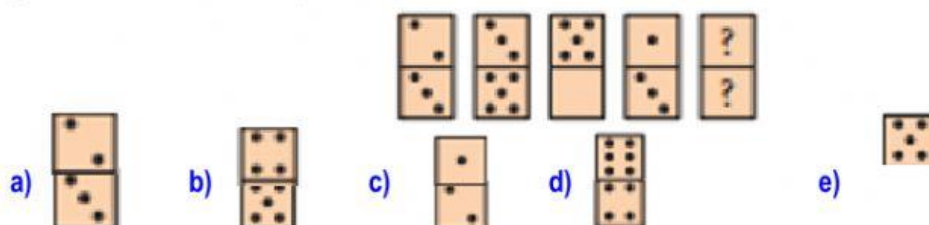
- a) Hijo      b) Sobrina      c) Hija      d) Hermana      e) N.A

2) ¿Cuál es el Valor de X de la Figura siguiente?

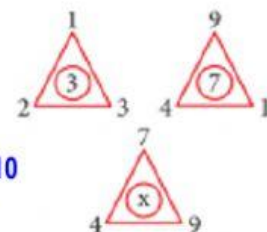


- a) 13      b) 32      c) 40      d) 8      e) N. A.

3) ¿Cuáles son las Fichas que Falta en el Domino?



4) ¿Cuál es el Valor de x de la gráfica?



- a) 2      b) 4      c) 6      d) 8      e) 10

5) ¿Cuál es el Número que sigue en la Sucesión? 30; 36; 42; 48; .....

- a) 50      b) 52      c) 54      d) 56      e) N.A.

6) ¿Cuál es la letra que continua en la Sucesión? B; F; J; N; .....

- a) P      b) Q      c) R      d) S      e) N.A.

7) ¿Indica el número que sigue? 0; 0; 1; 3; 7; 17; .....

- a) 37      b) 34      c) 24      d) 51      e) N.A.

8) ¿Calcula el número que continua? 5; 8; 13; 21; 34; .....

- a) 44      b) 54      c) 55      d) 41      e) N.A.

9) ¿Cuál es el Número que continua en la Secuencia? 1; 8; 27; 64; 125; .....

- a) 216      b) 250      c) 255      d) 512      e) N.A.

10) ¿Cuál es la letra que continua en la sucesión? a; a; b; c; e; h; .....

- a) k      b) l      c) m      d) n      e) N.A.