

## Contenidos previos

### Figuras planas



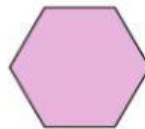
Triángulo



Cuadrado




Pentágono



Hexágono



Circunferencia

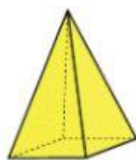


Círculo

### Cuerpos geométricos




Prisma



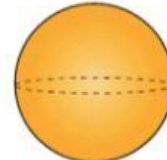
Pirámide



Cilindro



Cono



Esfera

**5** Indica si es una figura plana o un cuerpo geométrico. Después, escribe su nombre.

