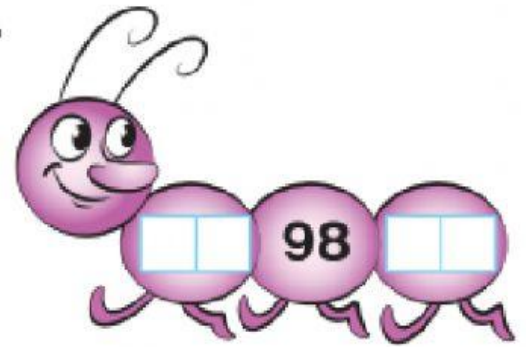




# Числа 91-100

1. Запиши «сусідів» кожного числа.



2. Порівняй.

$91 \square 19$

$92 + 1 \square 93$

$95 + 0 \square 95 - 0$

$97 \square 79$

$98 - 1 \square 99$

$90 - 1 \square 90 + 1$

3. Скільки монет на кожному малюнку? Скільки гривень?



монети

грн



монети

грн



монети

грн

4. Обчисли.

0 1 2 3 4 5 6 7 8 9 10



$\text{ice cream} + \text{mushroom} - \text{orange} + \text{lemon} = \square$

$\text{candy} - \text{strawberry} + \text{apple} - \text{watermelon} = \square$

$\text{candy} + \text{apple} + \text{banana} - \text{leaf} = \square$